



SEMANA DEL 20 AL 23 DE MARZO.



PRACTICA 2

1. Escriba en letras las siguientes cantidades:

498 _____

2 340 _____

1 452 _____

8 002 _____

3. Compara cada par de números. Luego, escribe $>$, $<$ o $=$, según corresponda.

72 ____ 25 $>$ $>$ 78 ____ 29

18 ____ 28 $<$ $<$ 45 ____ 60

=G

4. Ubica los sumandos. Luego suma.

$$840 + 379$$

| | | | |
|-------|--|--|--|
| + | | | |
| | | | |
| <hr/> | | | |
| | | | |

5. Nicolás tiene 342 insectos de juguete. Leonardo tiene 127. ¿Cuál es la diferencia entre el número de insectos de Nicolás y el de Leonardo?

| | | | |
|-------|--|--|--|
| - | | | |
| | | | |
| <hr/> | | | |
| | | | |

6. Continúa cada secuencia numérica a partir del patrón dado.

Patrón sumar 11

35

| | | |
|--|--|--|
| | | |
|--|--|--|

Patrón restar 10

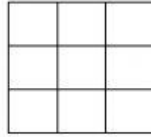
82

| | | |
|--|--|--|
| | | |
|--|--|--|



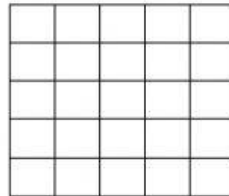
Resuelva los siguientes problemas de razonamiento.

7. Pablo entregó 6 cajas con botellas de agua. Si cada caja contiene 12 botellas, ¿Cuántas botellas entregó en total?




8. Escriba la multiplicación en forma vertical. Luego, resuelve.

$$343 \times 6$$



9. Lea el reparto que se propone. Luego, encierre cada grupo y completa.

9 peras en 3 platos



En cada plato hay __ peras



REPASO MULTIPLICACIONES

| | | | |
|--|---|---|---|
| | | | |
| | 5 | 6 | 9 |
| | | X | 2 |
| | | | |

| | | | |
|--|---|---|---|
| | | | |
| | 8 | 0 | 6 |
| | | X | 3 |
| | | | |

| | | | |
|--|---|---|---|
| | | | |
| | 3 | 7 | 9 |
| | | X | 3 |
| | | | |

| | | | |
|--|---|---|---|
| | | | |
| | 9 | 7 | 6 |
| | | X | 2 |
| | | | |

Buena
Suerte!