


LUAS PERMUKAAN PRISMA DAN LIMAS

NAME: _____ CLASS: _____

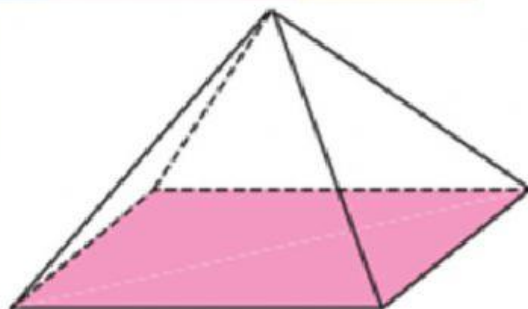
I. Simaklah video berikut!



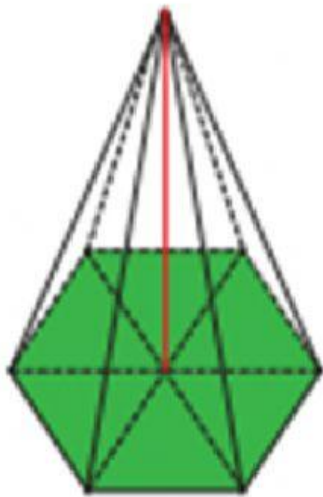
II. Perhatikan bagian atap bangunan di bawah ini. Berbentuk apakah bagian atap itu?



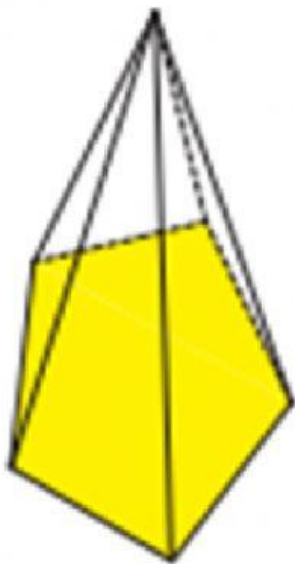
Pada bagian atas gubuk dapat digambar seperti bangun ruang



Pada gambar tersebut dibatasi oleh ... alas yang berbentuk dan ... sisi tegak yang berbentuk segitiga.



Pada gambar tersebut dibatasi oleh ... alas yang berbentuk ... dan ... sisi tegak yang berbentuk segitiga



Pada gambar tersebut dibatasi oleh ... alas yang berbentuk ... dan ... sisi tegak yang berbentuk segitiga



1

1

5

4

1

1

**Segi
Lima**

**Segi
Enam**

**Persegi
Panjang**

III. Tentukanlah rumus berdasarkan gambar yang kalian amati!

