

MATEMÁTICAS

6 Clasifica estos cuadriláteros.

a.




b.



c.



d.



e.



f.



g.



A

B

C

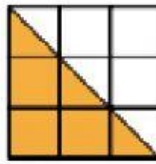

D

E

F

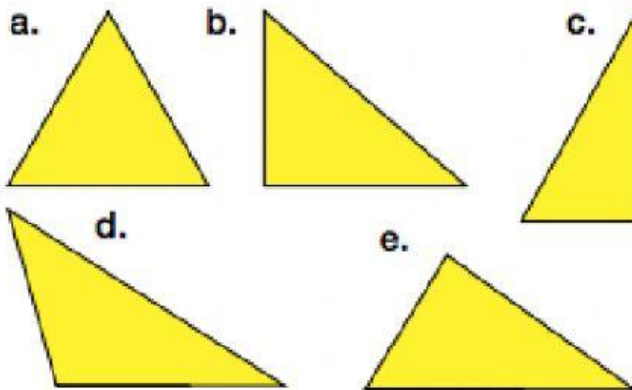
G

8 Calcula el área de cada figura.



PON EL RESULTADO SOLO CON EL NÚMERO

5 Clasifica los triángulos según sus lados y según sus ángulos.



	SEGÚN SUS LADOS	SEGÚN SUS ÁNGULOS
A		
B		
C		
D		
E		