



¡RUMBO AL ESPACIO!



Coloca en su lugar y después relaciona.

LUNA

SOL

TIERRA



Sol

Tierra

Luna

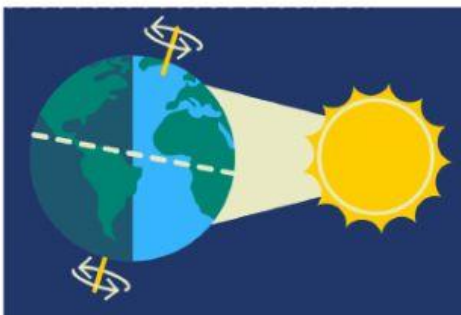
Es un satélite que gira alrededor de la Tierra.

Es una estrella que da luz y calor.

Es un planeta del Sistema Solar.



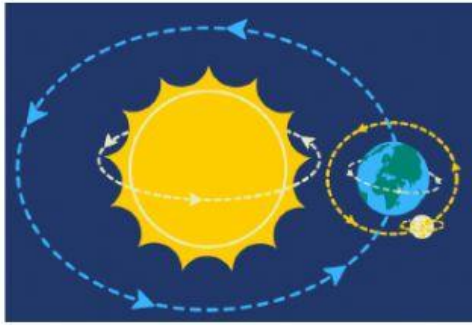
Observa el dibujo y selecciona la opción correcta..



La Tierra, el planeta donde vivimos, gira _____ y tarda _____ horas, es decir, un _____ en dar una vuelta completa. Al girar siempre hay una parte que recibe la luz del Sol donde es de _____ y en la otra parte es de _____. Este movimiento se llama _____.



Observa el dibujo y selecciona la opción correcta.




La Tierra gira _____.
Tarda un _____, _____ días, en dar una
vuelta completa y esto da lugar a _____.
Este movimiento se llama _____.



¿Sabes el nombre de cada una de las estaciones del año?



¿En qué fase se encuentra la luna en cada imagen? Selecciona.



Ahora observa el mapa del tiempo atmosférico en España y completa.



GALICIA	
BARCELONA	
MADRID	
MURCIA	
CANARIAS	
MELILLA	