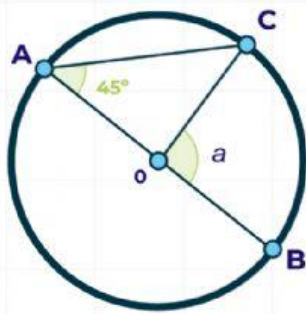
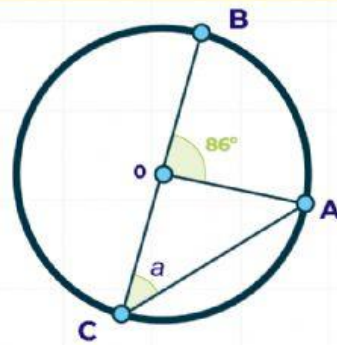


**Determina si los siguientes ángulos son inscritos o centrales
y calcula el valor de a**



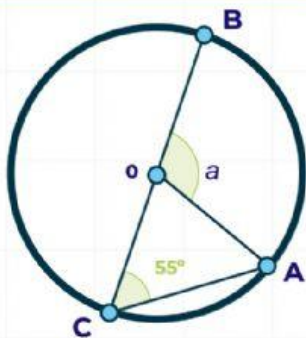
Tipo de ángulo : _____

Medida de a : _____



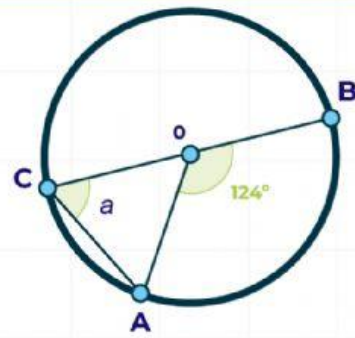
Tipo de ángulo : _____

Medida de a : _____



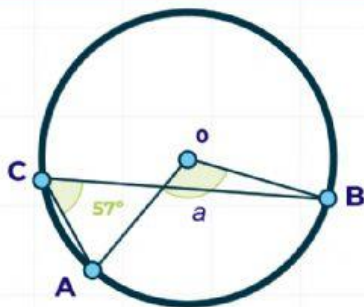
Tipo de ángulo : _____

Medida de a : _____



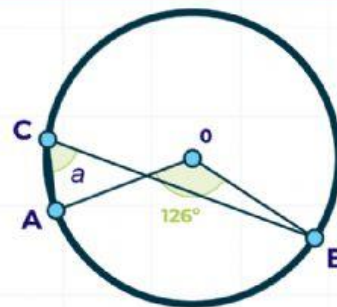
Tipo de ángulo : _____

Medida de a : _____



Tipo de ángulo : _____

Medida de a : _____



Tipo de ángulo : _____

Medida de a : _____