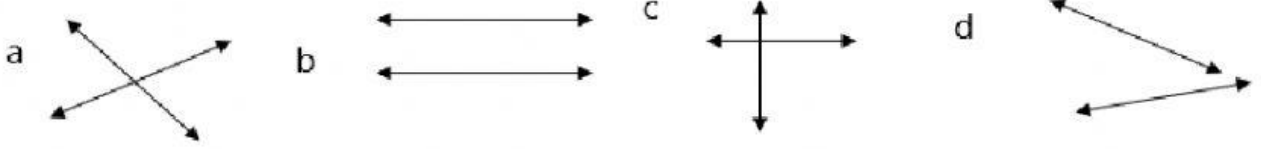
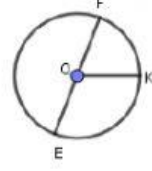


1. ಸಮಾಂತರ ಸಮಾಂತರ ರೇಖೆಗಳನ್ನು ಗುರುತಿಸಿ.



2. ಚಿತ್ರದಲ್ಲಿ ಯಾವುದು ವ್ಯಾಸವಾಗಿರುತ್ತದೆ?

- a) OK b) OKF c) EO d) EF



3.  $5m-75$  ಆದರೆ  $m$  ನ ಬೆಲೆಯು-----

- a)1 b) 15 c) 20 d) 25

4.  $5m^2n$  ನಲ್ಲಿ  $n$  ನ ಸಹಗುಣಕ-----

- a)5 b)  $5m^2$  c)  $5m$  d)  $m^2$

5. ಶಂಕುವಿನ ಘನಫಲ ಕಂಡುಹಿಡಿಯುವ ಸೂತ್ರ-----

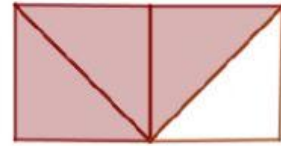
- a)  $\pi r^2 h$  b)  $\frac{1}{3}\pi r^2 h$  c)  $2\pi r h$  d)  $\frac{2}{3}\pi r^3$

6. ಕೆಳಗಿನವುಗಳಲ್ಲಿ ಅಭಾಗಲ್ಪ ಸಂಖ್ಯೆ ಯಾವುದು

- a)  $\frac{3}{4}$  b)  $\sqrt{3}$  c) 0.5 d)  $\sqrt{25}$

7. ಚಿತ್ರವನ್ನು ಗಮನಿಸಿ ಭಿನ್ನರಾಶಿ ರೂಪ ಬರೆಯಿರಿ.

- a)  $\frac{4}{4}$  b)  $\frac{2}{4}$  c)  $\frac{3}{4}$  d)  $\frac{1}{4}$



8. ಕೆಳಗಿನ ದತ್ತಾಂಶಗಳಲ್ಲಿನ ಬಹುಲಕ 2,3,4,5,3,3,4.

- a)4 b) 3 c) 2 d) 3 & 4