

A PREENCHER PELO ALUNO \_\_\_\_\_ **2022/2023**

NOME \_\_\_\_\_ DATA: \_\_\_\_/\_\_\_\_/\_\_\_\_

AValiação: INSUFICIENTE ☐ SUFICIENTE ☐ BOM ☐ MUITO BOM ☐ PROF. (A) \_\_\_\_\_

**1. Observa as imagens de alguns meios de comunicação pessoal e social.**

Escreve o nome de cada meio de comunicação representado.



**1.1. Dos meios de comunicação representado, na pergunta 1, diz quais são os:**

- meios de comunicação pessoal. \_\_\_\_\_
- meios de comunicação social. \_\_\_\_\_

**2. Observa as imagens e faz a legenda de cada um dos tipos de transporte.**


**1 – público**

**2 – privado**

**A – transporte terrestre**

**B – transporte aquático**

**C – transporte aéreo**



**3. Observa os sinais de trânsito.**

**3.1. Legenda os sinais com os nomes do quadro.**



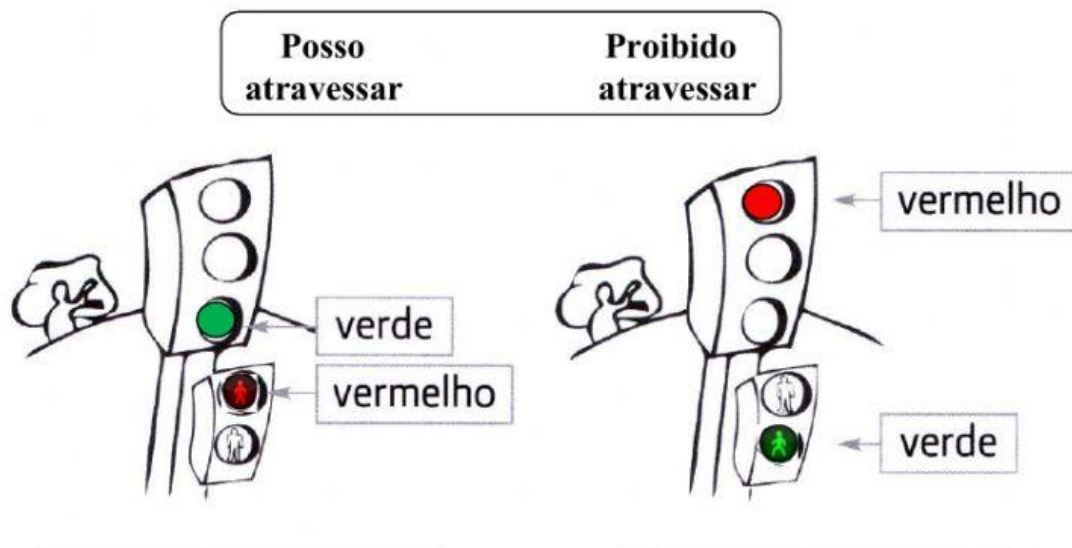
Sinal de obrigação  
Sinal de informação  
Sinal de perigo  
Sinal de proibição

**3.2. Coloca as seguintes palavras nos respetivos lugares.**


**fila   esquerda   peões**

As pessoas que transitam a pé são os \_\_\_\_\_, que devem andar sempre pela \_\_\_\_\_. Quando andamos de bicicleta devemos seguir em \_\_\_\_\_.

3.3. Observa os semáforos e legenda-os com as palavras do quadro.



4. Andar de bicicleta em locais com muito trânsito pode ser perigoso. Há situações de perigo que devemos evitar. Assinala alguns cuidados que deves ter quando andas de bicicleta.




- ☐ Usar sempre capacete, luvas e joelheiras.
- ☐ Circular pelo passeio.
- ☐ Circular, sempre que possível, em ciclovias.
- ☐ À noite usar roupa clara, colete refletor e luzes.
- ☐ Circular sempre pela esquerda, na estrada.

5. As imagens que se seguem representam as **quatro estações do ano**. Escreve o nome de cada uma, no local correto.



6. Numa escola da Guarda, os alunos registaram o estado do tempo numa **sexta-feira**.

						
sexta-feira						X

6.1. Essa sexta-feira correspondia a um dia de verão ou de inverno? Justifica a tua escolha.

---

7. Observa e liga cada planta à sua característica.



Cenouras



Nenúfar

Plantas espontâneas

Plantas cultivadas



Papoilas




Bromélia

8. Preenche a tabela usando o nome das plantas da pergunta 7, de acordo com o ambiente onde vivem.

Plantas Aquáticas	Plantas que vivem sobre outras	Plantas terrestres

9. Legenda a planta.

- 1 - \_\_\_\_\_
- 2 - \_\_\_\_\_
- 3 - \_\_\_\_\_
- 4 - \_\_\_\_\_
- 5 - \_\_\_\_\_



9.1. Qual é a parte da planta que suporta as folhas, as flores e os frutos?

---

9.2. Escreve apenas uma das palavras destacadas para obteres afirmações verdadeiras.

- Sou a \_\_\_\_\_ e é através de mim que a planta fabrica o seu próprio alimento.
- Sou o \_\_\_\_\_ e tenho \_\_\_\_\_ para dar origem a novas plantas.
- Sou a \_\_\_\_\_ e fixo a planta ao solo.
- Sou o \_\_\_\_\_ e faço chegar a água e os sais minerais a toda a planta.
- Sou a \_\_\_\_\_ e dou origem aos frutos.

**Bom Trabalho!...**