



## PUSAT KEGIATAN BELAJAR MASYARAKAT PKBM “ MITRA MANDIRI “

Sekretariat : Blok Tangsi Jl. Tegalagung Ds. Benda,  
Kecamatan Karangampel – Kabupaten Indramayu

### SUMATIF AKHIR SEMESTER (SAS) 2

Mata Pelajaran : Sosiologi

Hari/Tanggal :

Program : Paket C Kelas \_\_\_\_\_

Waktu : 90 menit

#### A. Pilihan Ganda

1. Perhatikan fenomena sosial berikut

- (1) Meningkatnya kasus penelantaran anak
- (2) Rusaknya lingkungan alam akibat perbuatan manusia
- (3) Meningkatnya angka kemiskinan
- (4) Banjir akibat penggundulan hutan di daerah hulu
- (5) Menyempitnya lahan akibat meningkatnya pembangunan hunian

Pernyataan di atas yang termasuk konsep dasar sosiologi ditunjukkan oleh nomor ....

- A. (1), (2), dan (3)
  - B. (1), (2), dan (4)
  - C. (1), (3), dan (5)
  - D. (2), (4), dan (5)
  - E. (3), (4), dan (5)
2. Para atlet bulutangkis Indonesia berlatih siang dan malam, serta rela berpisah dengan keluarganya untuk bergabung dalam asrama Pelatihan Nasional demi meraih prestasi terbaik dalam ASIAN GAMES 2018. Perilaku para atlet tersebut merupakan perwujudan dari nilai ....
- A. Kerjasama
  - B. internalized
  - C. dominan
  - D. material
  - E. kebenaran
3. Salah satu permasalahan di kota-kota besar yang tidak dapat dihindari adalah kemacetan. Hal tersebut terjadi karena tingginya tingkat kepadatan dan volume kendaraannya. Persolan ini apabila dibiarkan terus menerus akan menimbulkan permasalahan bagi masyarakat pada umumnya. Secara sosiologis, permasalahan tersebut dapat diselesaikan dengan cara....
- A. Memengaruhi kebiasaan kelas menengah untuk menggunakan transportasi massal
  - B. Memberikan data tentang pola-pola interaksi sosial masyarakat dalam berkendara
  - C. Mengkaji peranan anggota masyarakat dalam mengurangi kemacetan
  - D. Mengembangkan sikap peka, kritis, serta rasional menghadapi gejala-gejala sosial yang terjadi
  - E. Mengkaji kenyamanan anggota masyarakat sebagai pengguna jalan raya

4. Obi adalah seorang anak SMA yang terkenal sebagai pendukung walikota di daerahnya. Menurutnya walikota di tempatnya tinggal mampu menjalankan pemerintahannya dengan baik. Oleh sebab itulah, ia tanpa ragu mengirim surat kepada walikota untuk menyampaikan aspirasi dan harapannya. Berdasarkan ilustrasi tersebut, faktor yang memengaruhi interaksi sosial antara keduanya adalah ...
- A. Identifikasi
  - B. Simpati
  - C. Sugesti
  - D. Imitasi
  - E. Empati
5. Perhatikan pernyataan-pernyataan berikut ini!
- (1) Seorang anak mengikuti kebiasaan ayahnya untuk menyikat gigi sebelum tidur
  - (2) Seorang anak bergabung dengan geng motor karena bergaul dengan teman-temannya
  - (3) Seorang anak bersikap sangat sopan karena didikan orang tuanya
  - (4) seorang anak menjadi nakal akibat pengaruh sinetron yang dia tonton

Berdasarkan pernyataan di atas, bentuk sosialisasi primer ditunjukkan oleh nomor ...

- A. (1) dan (2)
  - B. (1) dan (3)
  - C. (1) dan (4)
  - D. (2) dan (3)
  - E. (3) dan (4)
6. Setiap individu tentunya harus memenuhi kebutuhan hidupnya. Namun, dalam upaya memenuhi kebutuhan hidupnya tidak boleh dilakukan secara sembarangan. Hal itu karena ada nilai dan norma sosial yang harus kita patuhi. Oleh sebab itulah, terdapat institusi sosial yang mengatur kegiatan manusia dalam memenuhi kebutuhan hidup sehari-hari. Institusi sosial yang dimaksud adalah ...
- A. Agama berdasarkan ajaran Tuhan
  - B. Pendidikan yang mengajarkan keterampilan hidup
  - C. Keluarga sebagai sarana sosialisasi primer
  - D. Ekonomi yang terkait dengan kesejahteraan umum
  - E. Politik yang berfungsi bagi kehidupan sosial
7. Meskipun sudah sering dimarahi oleh orang tuanya, seorang anak tetap saja sering menggunakan media sosial. Anak tersebut melakukan hal itu karena mersa tidak di perhatiakn orang tuanya. Faktor penyebab peristiwa tersebut adalah ....
- A. Sosialisasi yang tidak sempurna
  - B. Sosialisasi dengan subkebudayaan yang menyimpang
  - C. Meniru prilaku yang menyimpang
  - D. Proses pelabelan dari masyarakat
  - E. Konflik yang terjadi di masyarakat
8. Masyarakat nelayan yang beretmpat tinggal di tepi pantai, sudah mengajarkan kepada anak – anak sejak kecil tentang cara – cara menangkap ikan dan bagaimana menghadapi badai di laut. Hal ini menyebabkan anak – anak nelayan tumbuh menjadi anak – anak yang kuat, cinta lingkungan dan ulet. Hubungan antara sosialisasi dan kepribadian berdasarkan ilustrasi adalah ...
- A. Kepribadian terbentuk karena adanya proses sosialisasi

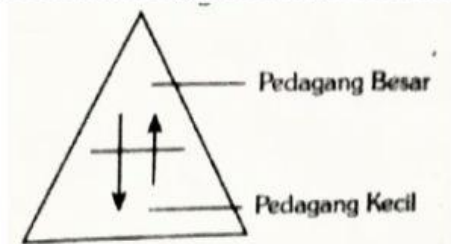


- B. Dalam sosialisasi perlu adanya kepribadian mandiri
  - C. Kepribadian dan sosialisai saling bertentangan
  - D. Kepribadian merupakan unsur pembentuk sosialisasi
  - E. Sosialisai merupakan bagian dari kepribadian
9. Pemerintah daerah di berbagai provinsi dituntut untuk melakukan percepatan dalam membangun kota. Untuk mewujudkan kepala daerah mengandung berbagai ahli di bidangnya. Harapan pemerintah daerah beberapa tahun ke depan kehidupan sosial ekonomi masyarakat mengalami peningkatan.
- Fungsi sosiologi sesuai dengan deskripsi di atas adalah sebagai...
- A. Konsultan yaitu memberikan masukan kepada Gubernur Kepala Daerah bagaimana menata kota yang baik
  - B. Penentu kebijakan di mana sosiolog memegang kuasa penuh untuk mendesain perubahan sosial
  - C. Peneliti yaitu sosiolog melakukan kajian tentang sikap mental masyarakat setempat yang cocok untuk pembangunan kota.
  - D. Pendidik yang melatih anggota masyarakat menjadi warga kota yang baik seperti harapan pemerintah.
  - E. Perencana pembangunan yang memberi masukan kepada pemerintah bagaimana rekayasa sosial yang harus dilakukan agar kehidupan masyarakat baik.
10. Pada suatu Sabtu sore, Polisi berhasil mengamankan 15 orang pelajar pelaku tawuran di suatu daerah. Hasilnya ditemukan beragam senjata tajam dari tangan pelajar. Akhirnya pelajar yang berhasil diamankan telah dibawa ke Kantor Polisi terdekat untuk di bina dan di panggil orang tuanya.
- Berdasarkan tatanan sosialnya, kenakalan atau kejahatan remaja tersebut dikategorikan sebagai .....
- A. Tindakan melawan hukum yang di tulis dalam tata tertib sekolah
  - B. Perilaku menyimpang yang bertentangan dengan harapan masyarakat
  - C. Penyimpangan sosial sekunder yang meresahkan masyarakat
  - D. Tindak kenakalan remaja yang bertentangan dengan norma hukum
  - E. Penyimpangan kelompok karena dilakukan secara bersama-sama
11. Proses pembagian bantuan ataupun sumbangan sering dilaksanakan secara langsung. Oleh sebab itu, seringkali kegiatan ini berakhir ricuh karena membludaknya orang-orang yang datang. Mereka terkadang selalu berebut tanpa mengindahkan antrean. Atas dasar itu, panitia sering kali melibatkan institusi Kepolisian untuk menjaga keamanan. Dalam ilustrasi tersebut, fungsi dari institusi sosial adalah .....
- A. Mengatur interaksi sosial yang tertib
  - B. Memberikan sanksi pelanggaran sosial
  - C. Menciptakan antrean yang lebih produktif
  - D. Menjaga keberlangsungan bantuan dan santunan
  - E. Membentuk struktur sosial dalam masyarakat
12. Keragaman di Indonesia diakibatkan oleh berbagai hal antara lain karena iklim dan struktur tanah yang berbeda-beda menyebabkan tumbuhan di Indonesia beranekaragam. Kedua, karena bentuk wilayah Indonesia yang bersifat archipelago (kepulauan) sehingga kehidupan di pulau-pulau tumbuh dan berkembang adat istiadat yang berbeda-beda. ketiga, letak geografis Indonesia yang strategis memiliki konsekuensi sering disinggahi oleh bangsa asing untuk mengembangkan kepercayaanya .berdasarkan wacana diatas,

diferensiasi sosial berdasarkan keragaman jenis pekerjaan pada masyarakat dilatarbelakangi oleh...

- A. Isolasi wilayah antar pulau
- B. Iklim dan struktur tanah yang berbeda
- C. Keterbukaan terhadap budaya luar
- D. Latar belakang sejarah yang berbeda
- E. Letak geografis Indonesia yang strategis

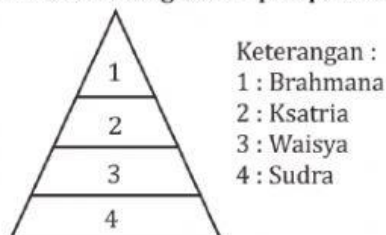
13. Perhatikan bagan mobilitas sosial berikut ini!



Gejala mobilitas dalam bagan di atas berbentuk mobilitas sosial vertikal, bukan horizontal karena ....

- A. Terdapat perbedaan cara mendapatkan status tingkat atas dan tingkat bawah
- B. Terjadi pergantian kedudukan sosial sesuai dengan asal usul kelahiran individu
- C. Muncul banyak kemungkinan bagi individu untuk berganti jenis status sosial
- D. Tertutup bagi kelompok tertentu dalam usaha menduduki strata sosial atas
- E. Terbuka peluang bagi individu untuk berpindah tingkat status sosialnya

14. Perhatikan gambar pelapisan sosial berikut ini!



Berdasarkan gambar tersebut, pernyataan di bawah ini yang tidak cocok untuk menggambarkan sistem tersebut adalah ....

- A. Sistem pelapisan sosial yang dianut masyarakat bersifat tertutup
- B. Dasar pelapisan sosial yang digunakan berdasarkan kriteria ekonomi
- C. Contoh yang menganut sistem pelapisan sosial tersebut adalah masyarakat Hindu Bali
- D. Setiap anggota strata sulit untuk mengadakan mobilitas sosial vertikal
- E. Pelapisan sosial berfungsi untuk menentukan tingkat mudah sukarnya bertukar kedudukan

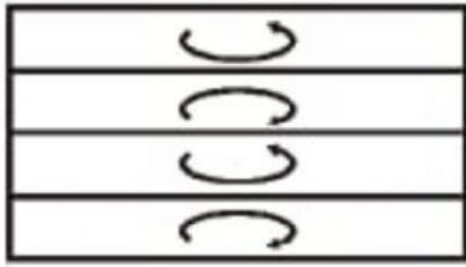
15. Perhatikan pernyataan-pernyataan berikut ini!

- (1) Orang-orang mengantre membeli tiket bioskop
- (2) Para penonton televisi yang menyaksikan pertandingan sepak bola
- (3) Keluarga jawa yang sedang berlibur di pantai
- (4) Warga RW 03 sedang bekerja bakti
- (5) Sekumpulan anak-anak sedang bermain bola

Berdasarkan pernyataan tersebut, yang termasuk pada contoh kelompok primer ditunjukkan oleh nomor ....



- A. (1), (2), dan (3)
  - B. (1), (2), dan (4)
  - C. (2), (3), dan (4)
  - D. (2), (3), dan (5)
  - E. (3), (4), dan (5)
16. Sebuah Perguruan Tinggi menggelar diskusi ilmiah tentang kenakalan remaja. Pada saat pembahasan, para pembicara terlibat perdebatan tentang solusi mengatsai kenakalan remaja. Berdasarkan uraian tersebut , dampak positif dari konflik yang terjadi adalah ...
- A. Memperjelas berbagai aspek kehidupan yang belum tuntas
  - B. Memungkinkan penyesuaian kembali nilai dan norma di masyarakat
  - C. Meningkatkan solidaritas di antara anggota kelompok
  - D. Mengurangi rasa ketergantungan antar individu dan kelompok
  - E. Sarana untuk mencapai keseimbangan kekuatan yang ada di masyarakat
17. Perhatikan ciri-ciri penelitian berikut ini!
- (1) Penelitian dilakukan untuk mengumpulkan informasi guna menyusun konsep dan teori
  - (2) Penelitian dilakukan untuk menguji dan mengevaluasi kemampuan suatu teori
  - (3) Penelitian bertujuan untuk merekonstruksi masa lampau secara sistematis
  - (4) Penelitian bertujuan untuk memecahkan masalah-masalah praktis dalam kehidupan sehari-hari
  - (5) Penelitian bertujuan untuk memperoleh berbagai data konkret secara langsung di lapangan
- Berdasarkan ciri-ciri tersebut, jenis penelitian survei di tunjukan oleh nomor ...
- A. (1)
  - B. (2)
  - C. (3)
  - D. (4)
  - E. (5)
18. Pertikain yang terjadi antara buruh dan pihak perusahaan dapat juga diselesaikan dengan cara kompromi. Alasan dipilihnya cara tersebut adalah karena kedua belah pihak ...
- A. Bertahan dengan pendirian awal mereka masing-masing
  - B. Perusaahn sebagai pihak yang kuat bisa menekan buruh
  - C. Buruh yang tidak menerima keputusan bisa diberhentikan
  - D. Saling mengurangi tuntutan sehingga bisa diperoleh sepakat
  - E. Saling menghindari bertemu langsung untuk menghindari konflik
19. Anna melakukan penelitian terhadap kebudayaan suku Tengger, oleh sebab itu, ia menetap selama beberapa bulan untuk mendapatkan data lapangan berdasarkan hasil observasi langsung. Dari ilustrasi tersebut, jenis data yang didapatkan adalah...
- A. Internal
  - B. Eksterbal
  - C. Sekunder
  - D. Primer
  - E. Kuantitatif
20. Perhatikan gambar sifat stratifikasi sosial berikut!



Gambar di atas merupakan sifat lapisan sosial tertutup yang dimiliki oleh masyarakat dengan sistem kasta. Pada masyarakat dengan sistem kasta maka anggota masyarakatnya tidak dapat berpindah lapisan sosial, hal ini karena .....

- A. Status sosial anggota masyarakat diperoleh dengan kelahiran atau keturunan
- B. Anggota kasta tertinggi tidak boleh menikah dengan anggota kasta terendah
- C. Setiap anggota kasta tertinggi memiliki hak dan kewajiban yang berbeda
- D. Masyarakat ingin menjaga kemurnian anggota kelas sosial
- E. Pekerjaan anggota kasta terendah umumnya tidak dihargai di masyarakat