


La decena pura



Une con líneas según corresponda:



2 decena = 20 unidades

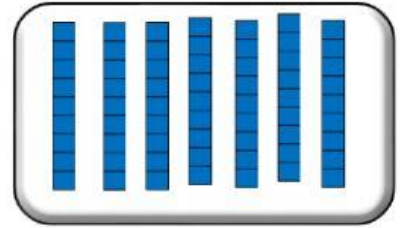
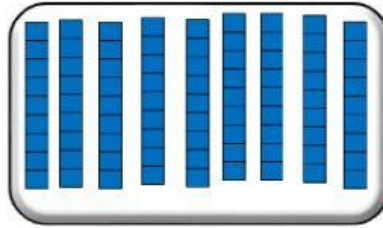
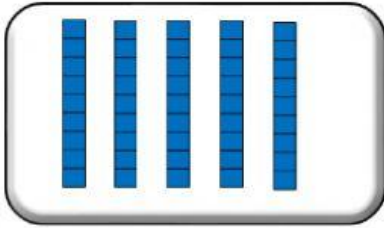
1 decena = 10 unidades

4 decena = 40 unidades

3 decena = 30 unidades

6 decena = 60 unidades

Selecciona cada número con su decena correspondiente



Escribe las decenas puras:

50

90

10

70

30

80

40

60

20



DIEZ
UNIDADES
FORMAN UNA
DECENA.

