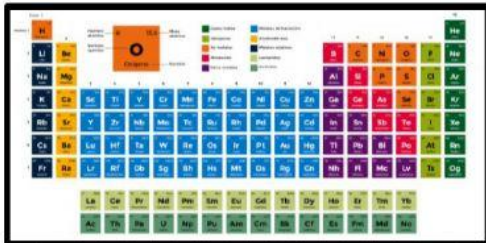


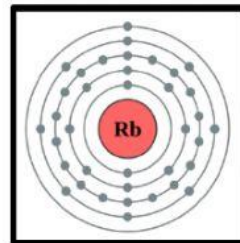
ESCUELA SECUNDARIA # 28  
 PROFRA. MARGARITA DE GORTARI DE SALINAS  
 CIENCIAS III ÉNFASIS EN QUÍMICA  
 CICLO ESCOLAR 2022-2023  
 EXAMEN SEGUNDO TRIMESTRE ADECUACIÓN

ALUMNO:

GRUPO:

I-. Arrastra el nombre con la imagen que corresponda.










CONTAMINACIÓN  
 ÁTOMO

TABLA PERIÓDICA  
 MEZCLA

En las siguientes imágenes elige si se trata de mezclas homogéneas o heterogéneas.











Identifica el nombre de los siguientes personajes.










Identifica la contaminación relacionando el concepto hacia cada dibujo por medio del punto.



Contaminación  
del suelo



Contaminación  
del agua



Contaminación  
del aire

