

GEOMETRÍA

NOMBRE:

TAREA 1: Observa y escucha el vídeo atentamente:



cono



cubo



cilindro



pirámide



esfera

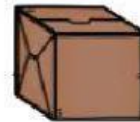

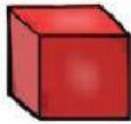


triangular

- Fíjate en sus nombres. Piensa a qué te recuerda cada una de ellas. A partir de aquí, realiza las siguientes actividades.

TAREA 1: Relaciona las imágenes según su parecido.





TAREA 2: ¿Recuerdas sus nombres? Elige el nombre correcto.



TAREA 3: Escribe el nombre de algún objeto que tenga cada una de estas formas. Puedes buscar en Internet.



EL RELOJ

TAREA 4: Vamos a practicar un poquito las horas y las horas y media en el reloj **analógico**.



- En el reloj digital, la representación es la siguiente:



TAREA 5: Vamos a practicar un poquito. Une con flechas.



Las 5 en punto

Las 6 en punto

Las 6 y media

Las 2 y media