

LOS TRIÁNGULOS

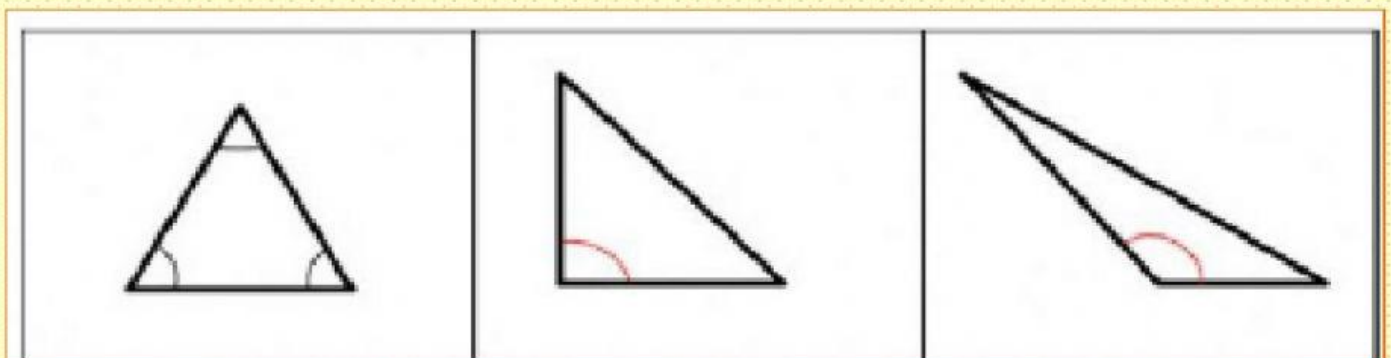
II

Los triángulos pueden clasificarse según la amplitud de sus ángulos en:



https://www.youtube.com/watch?v=cl219w_G-Ww

1 .Elige el nombre de los triángulos:



Triángulo
3 ángulos agudos

Triángulo
1 ángulo recto

Triángulo
1 ángulo obtuso

2. Une

Equilátero

Acutángulo

Escaleno

Rectángulo

Isósceles

Obtusángulo

Dos lados iguales

Tres lados desiguales


Tres ángulos agudos


Tres lados iguales

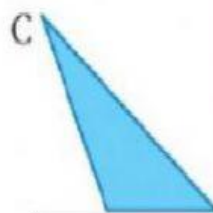
Un ángulo obtuso

Un ángulo recto

3. Clasifica estos triángulos:











4. Escribe ahora tú su nombre:

TRIÁNGULOS

SEGÚN SUS LADOS

SEGÚN SUS ÁNGULOS

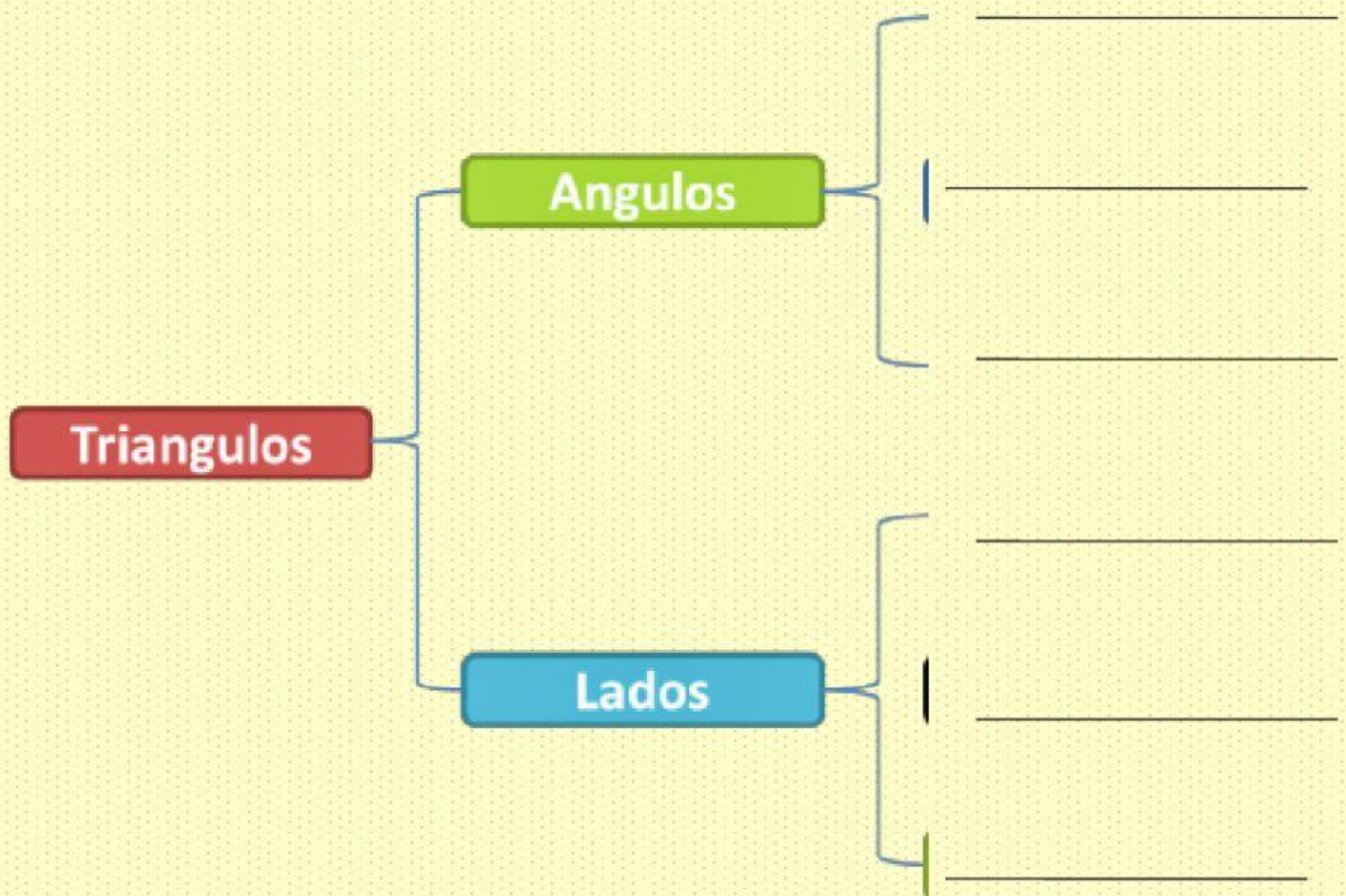








5. Completa:



Obtusangulo

Rectangulo

Equilatero

Iscoseles

Escaleno

Acutangulo



L.R.A