

SMA NEGERI 1 MAKASSAR

TAHUN PELAJARAN 2022/2023

**LEMBAR KERJA PESERTA DIDIK (LKPD)**  
**PERTEMUAN 4**  
**GEOGRAFI**

Nama Kelompok :

Nama Siswa :

Kelas :

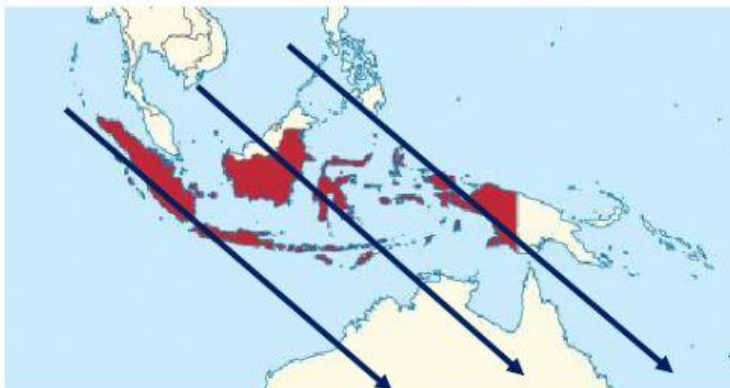
Tanggal :

**A. Petunjuk Belajar (Petunjuk siswa)**

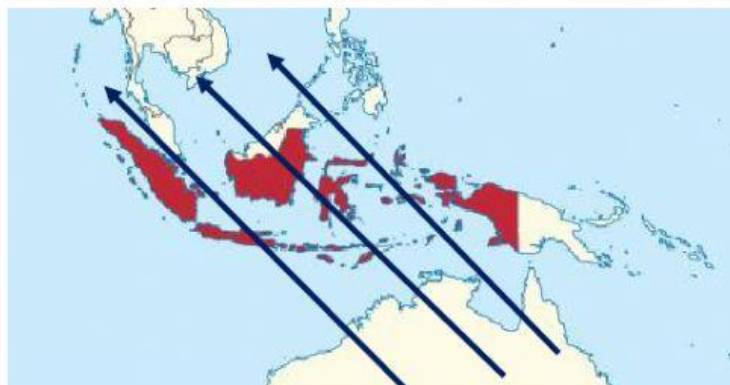
- Baca secara cermat bahan ajar sebelum mengerjakan tugas
- Baca literatur lain untuk memperkuat pemahaman siswa
- Kerjakan setiap langkah sesuai tugas
- Kumpulkan laporan hasil kerja sesuai dengan jadwal yang telah disepakati antara guru dengan siswa
- Diskusikan dalam kelompok dan konsultasikan dengan guru dalam mengerjakan tugas

**B. Tugas**

- pasangkanlah gambar dengan jawaban yang ada di box kemudian deskripsikan jawaban tersebut?

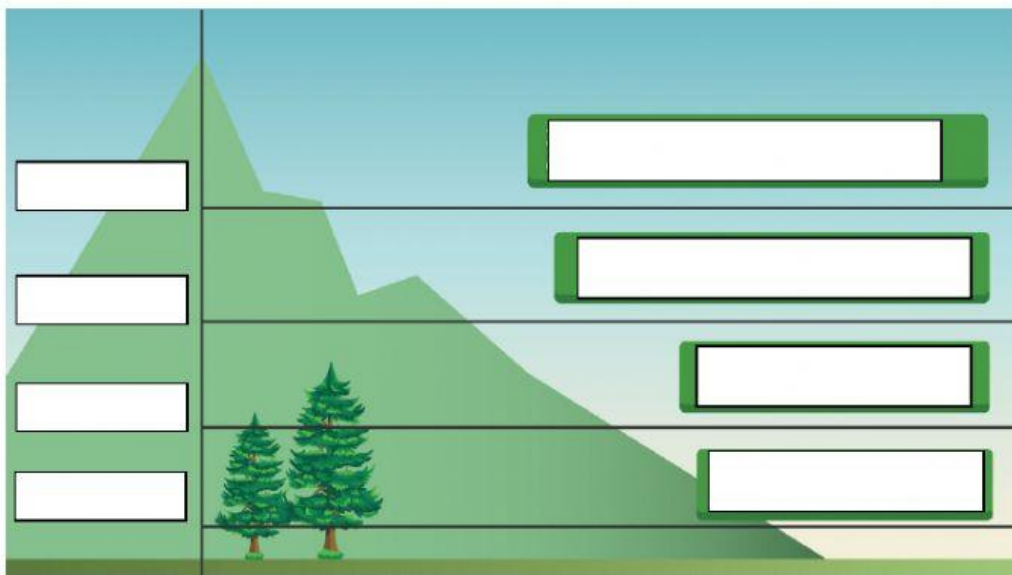



ANGIN MONSUN TIMUR



ANGIN MONSUN BARAT

2. Pilihlah jawaban pada bagian yang kosong sesuai dengan klasifikasi iklim menurut J.W. Junghuhn pada gambar kemudian jelaskan karakteristik dari setiap klasifikasi iklim tersebut





**3. Petunjuk :**

Pilihlah tipe hutan berdsarkan gambar, kemudian deskripsikan tipe hutan tersebut

| Gambar  | Deskripsi |
|---|-----------|
|  |           |



4. pasangkanlah manfaat iklim dan cuaca dalam berbagai bidang kehidupan pada tabel di bawah ini?

| Manfaat cuaca dan iklim dalam kehidupan  |                       |
|--|-----------------------|
| Menentukan waktu tanam dan jenis tanaman yang sesuai   | Bidang pariwisata     |
| Kondisi cuaca yang baik mempengaruhi kelancaran penerbangan pesawat  | Bidang telekomunikasi |
| Kondisi cuaca cerah, banyak cahaya matahari, kecepatan angin, udara sejuk, kering atau panas mempengaruhi pelaksanaan wisata | Bidang pertanian      |
| Kondisi cuaca yang baik akan mempengaruhi kelancaran jaringan internet   | Bidang transportasi   |

