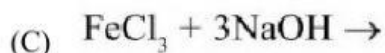
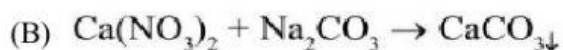
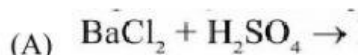
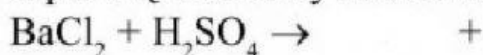


Korzystając z tablicy rozpuszczalności, napisz w formie cząsteczkowej, jonowej i jonowej skróconej równania reakcji zachodzących w roztworach wodnych pomiędzy podanymi związkami:

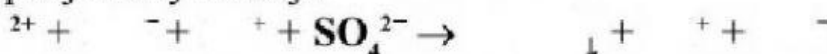


Rozwiązanie:

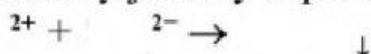
a) zapis cząsteczkowy równania:



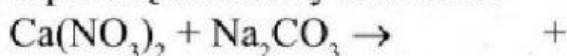
Zapis jonowy reakcji:



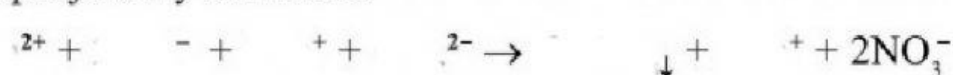
Skrócony jonowy zapis reakcji:



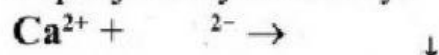
b) zapis cząsteczkowy równania:



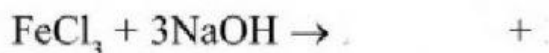
Zapis jonowy równania:



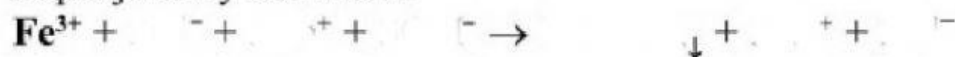
Zapis jonowy skrócony:



c) Zapis cząsteczkowy:



Zapis jonowy równania:



Zapis jonowy skrócony:

