



**PEMERINTAH KABUPATEN SINJAI
DINAS PENDIDIKAN**

SDN NO. 237 LAPPARA'NA KEC. SINJAI BARAT

Alamat : Jl. Poros Bonto Salama No. 57 Kec. Sinjai Barat Kab. Sinjai ☒ 92653

**PENILAIAN TENGAH SEMESTER (PTS)
TAHUN PELAJARAN 2022/2023**

Mata Pelajaran : Tematik Tema 6 Nama Siswa :
Kelas/ Semester : IV (Empat)/ II (Dua)
Waktu : 60 Menit
Hari/ Tanggal : Senin, 05 Maret 2023

A. PILIHAN GANDA

Untuk soal nomor 1-2, berilah tanda silang (X) pada huruf a, b, c, dan d pada jawaban yang benar!

1. Perhatikan puisi berikut

Berbekal karung dan tongkat kecil
Kamu mencari dan menemukan
Barang-barang yang telah dibuang pemiliknya
Untuk ditukarkan kepada para pengepul
Aku mengagumimu, sahabatku
Kamu tidak pernah menyerah
Kamu tidak pernah mengeluh
Kamu selalu semangat

Kata sahabatku diatas mempunyai arti.....

- a. Pemulung
- b. Teman bermain
- c. Teman sekolah
- d. Pengepul

2. Perhatikan gambar di bawah!



Gambar di atas merupakan tempat ibadah agama...

- a. Kristen
- b. Islam
- c. Katholik
- d. Hindu

B. PILIHAN GANDA KOMPLEKS


Untuk soal nomor 3 – 4, pilih dan berilah tanda centang (✓) pada setiap pernyataan yang benar! (jawaban dapat lebih dari satu)

3. Sumber daya alam hayati berupa tumbuhan dan hewan menjadi sumber makanan manusia.

Dari hewan Sapi kita bisa memperoleh makanan dan minuman berupa...

- ☐ Telur
- ☐ Kulit
- ☐ Daging
- ☐ Susu

4. Perhatikan gambar berikut!



Berikut merupakan langkah-langkah membuat kolase...

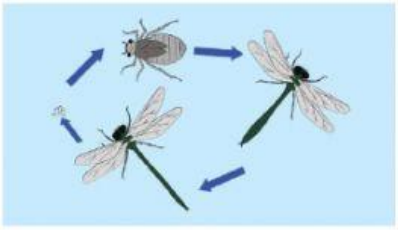
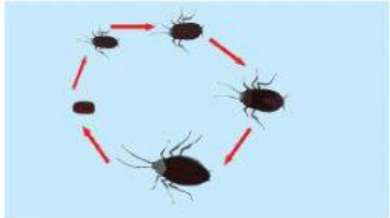
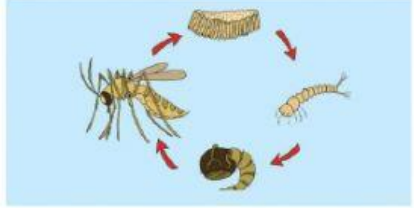
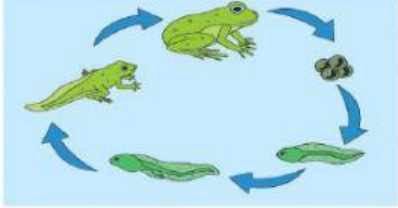
- ☐ Siapkan gambar pada selembar kertas
- ☐ Siapkan potongan-potongan bahan koran bekas
- ☐ Tempelkan potongan-potongan koran bekas pada pola yang sudah disiapkan
- ☐ Warnailah dengan pensil warna

C. MENJODOHKAN

Untuk soal nomor 5 - 6, pasangkanlah pernyataan di lajur kiri dengan keterangan yang tepat di lajur kanan!

5. Daur hidup adalah suatu proses yang menandai perkembangan suatu organisme sejak memulai hidupnya di bumi sampai bereproduksi untuk mempertahankan keberadaan jenisnya.

Pasangkanlah gambar di lajur kiri dengan daur hidup yang tepat di lajur kanan!

	•	•	KECOA
	•	•	NYAMUK
	•	•	KATAK
	•	•	CAPUNG

6. Tempat ibadah masing-masing umat beragama di Indonesia berbeda-beda bentuk dan fungsinya.

Pasangkanlah gambar tempat ibadah dengan nama tempat ibadah yang tepat!



Gereja



Vihara



Pura



Kelenteng

D. ISIAN

Untuk nomor 7 – 8, isilah titik-titik di bawah ini dengan jawaban yang tepat!

7. Perhatikan puisi di bawah ini!

Aku Ingin Jadi Penerbang
Lagu dan Syair ciptaan: AT Mahmud

Aku ingin menjadi penerbang
Langit biru tempat bermain
Melayang-melayang
Terbang setinggi mungkin

Tangkas berani laksana elang
Jauh terbangku di ruang angkasa
Melayang-melayang
Antara bintang-bintang



Judul puisi di atas adalah...

8. Perhatikan teks di bawah ini!

<ol style="list-style-type: none">1. Kupu-kupu yang siap bertelur .2. Telur kupu-kupu3. Telur menetas mengeluarkan larva/ulat4. Larve berubah menjadi pupa5. Kepompong akan menetas menjadi kupu-kupu	
---	---

Keterangan di atas, merupakan metamorfosis.....

E. URAIAN/ ESSAI

Untuk nomor 9 – 10, jawablah pertanyaan berikut dengan jawaban yang benar!

9. Perhatikan teks berikut!

Berdasarkan peta sumber daya alam bahan tambang terdapat diseluruh wilayah Indonesia, di antaranya Minyak bumi, Batu bara, Tembaga, Besi, Timah, Kapur, Yodium, Asbes, Marmer dan Belerang. Barang tambang sangat diperlukan untuk memenuhi kebutuhan industri, ada banyak manfaat dari bahang tambang tersebut.

Sebutkan 4 manfaat bahan tambang minyak bumi!

10. Perhatikan lagu berikut!

Indonesia tanah air beta
Pusaka abadi nan jaya
Indonesia sejak dulu kala
Tetap dipuja-puja bangsa

Jelaskan isi lagu di atas!

SELAMAT BEKERJA NAK