



PEMERINTAH KABUPATEN SINJAI

DINAS PENDIDIKAN

SD NEGERI 68 MANIPI KEC. SINJAI BARAT

Jl. Lembah Harapan Manipi Ke. Tassililu, Kec. Sinjai Barat ☎92653 Manipi

SOAL PENILAIAN TENGAH SEMESTER (PTS)

Tema : 6. Panas dan Perpindahannya
 Kelas/ Smt : V (Lima)/ Genap
 Tahun Pelajaran : 2022/2023
 Nama Siswa :

Mapel dan KD	No. Soal	Nilai	Ketuntasan	TTD Guru	TTD Orang Tua
PPKn 3.2	1,6,11,16				
Indonesia 3.3	2,7,12,17				
IPA 3.6	3,8,13,18				
IPS 3.2	4,9,14,19				
SBdP 3.2 & 3.3	5,10,15,20				

A. PILIHAN GANDA

Jawablah pertanyaan di bawah ini dengan memberi tanda silang (×) pada pilihan jawaban yang paling benar!

1. Perhatikan ilustrasi berikut!

Pada jam istirahat, Made membeli minuman kemasan di kantin.

Berdasarkan ilustrasi tersebut, tanggung jawab Made setelah menghabiskan minuman itu adalah ...

- A. Meletakkannya di pojok ruangan
- B. Membuangnya di laci meja teman
- C. Membuangnya ketempat sampah
- D. Meminta teman membuangnya

2. Perhatikan teks berikut!

Suhu sangat erat hubungannya dengan panas. Di dalam lingkungan, kadang-kadang pengertian suhu dan panas tidak dapat dibedakan. Jika seseorang menanyakan berapa derajat panas saat ini, orang yang ditanya terkadang menjawab dengan 37 derajat. Jawaban ini tidak benar karena suhu dan panas adalah dua hal yang berbeda. Panas merupakan salah satu energi, sedangkan suhu merupakan derajat panas suatu benda.

Berdasarkan teks tersebut, kata-kata kunci yang tepat adalah ...

- A. Suhu dan panas
- B. Derajat dan orang
- C. Energi dan benda
- D. Seseorang dan masyarakat

3. Perhatikan ilustrasi berikut!

Ibu ingin mengambil kue yang sudah selesai dipanggang dari dalam oven.
Berdasarkan ilustrasi tersebut untuk menghambat kalor dari loyang Ibu sebaiknya menggunakan ...

- A. Besi
 - B. Aluminium
 - C. Kertas
 - D. Kain lap
4. Perhatikan gambar berikut!



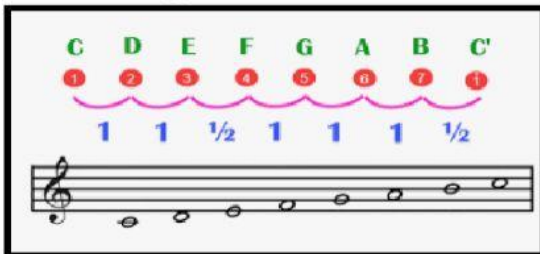
Berdasarkan gambar tersebut, bentuk interaksi antara manusia dengan lingkungannya terjadi antara ...

- A. Nelayan dan laut
- B. Petani dan padi
- C. Penambang dan pasir
- D. Sopir dan mobil

B. PILIHAN GANDA KOMPLEKS

Berilah tanda centang (✓) pada jawaban yang benar! Jawaban dapat lebih dari satu.

5. Perhatikan tangga nada berikut!



berdasarkan gambar tersebut, berilah tanda centang (✓) manakah pernyataan berikut yang sesuai !

Pernyataan	Benar	Salah
Memiliki 5 nada		
Biasanya digunakan pada lagu-lagu nasional		
Bersifat gembira, lincah dan riang		
Merupakan tangga nada pelog		

6. Perhatikan pernyataan-pernyataan berikut!

1. Membuang sampah ke tempat sampah
2. Mengerjakan tugas dengan sungguh-sungguh
3. Lingkungan sekolah menjadi bersih
4. Mendapat nilai bagus dari tugas tersebut

Berdasarkan pernyataan tersebut, berilah tanda centang (✓) pada pernyataan benar atau salah. Contoh kewajiban siswa disekolah!

Pernyataan	Benar	Salah
1		
2		
3		
4		

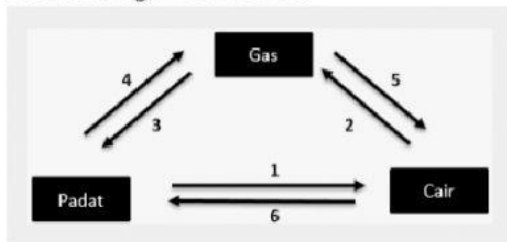
7. Perhatikan pernyataan-pernyataan berikut!

1. Menentukan kata kunci
2. Bacalah teks dengan seksama
3. Catatlah gagasan utama dari setiap paragraf
4. Membuat pertanyaan yang berkaitan dengan teks.

Berdasarkan pernyataan tersebut berilah tanda centang (✓) pada pernyataan benar atau salah hal-hal yang perlu diperhatikan dalam membuat ringkasan!

Pernyataan	Benar	Salah
1		
2		
3		
4		

8. Perhatikan gambar berikut!



Berdasarkan gambar tersebut, beri tanda centang (✓) pernyataan yang benar atau salah nama perubahan wujud benda sesuai nomor gambar !

Pernyataan	Benar	Salah
Gambar 1 adalah membeku		
Gambar 2 adalah mencair		
Gambar 3 adalah mengembun		
Gambar 4 adalah menyublim		

C. MENJODOHKAN

9. Perhatikan gambar berikut!



Gambar 1



Gambar 2



gambar 3



Gambar 4

Berdasarkan gambar tersebut, beri garis penghubung antara gambar dengan pekerjaan yang terlibat pada interaksi dalam pembangunan ekonomi !

Gambar		Peran
1	•	• Untuk membangun infrastruktur yang dibutuhkan
2	•	• Untuk mengatasi masalah kesehatan selama pembangunan ekonomi berlangsung
3	•	• Menyalurkan bahan makanan dan sumber pangan bagi masyarakat
4	•	• Sebagai penghasil bahan pangan

10. Perhatikan gambar berikut!



Gambar A



Gambar B



Gambar C



Gambar D

Berdasarkan gambar tersebut, beri garis penghubung antara gambar dengan tarian daerah di Indonesia dengan pola lantainya!

Gambar		Pola lantai
A	•	Lingkaran
B	•	Vertikal
C	•	Diagonal
D	•	Angka 8

11. Perhatikan gambar berikut!



Gambar A



Gambar B



Gambar C



Gambar D

Berdasarkan gambar tersebut, beri garis penghubung contoh hak, kewajiban atau tanggung jawab sebagai warga negara sesuai gambar!

Gambar		Contoh
A	•	Menganut agama
B	•	Membayar pajak tepat waktu
C	•	Menaati peraturan lalu lintas
D	•	Menjaga dan merawat fasilitas umum

12. Perhatikan bacaan berikut!

Memasak dengan Teknik Wood Fire

Wood fire merupakan salah satu cara memasak makanan dalam tungku besar. Tungku besar tersebut terbuat dari batu bata yang dibagian dalamnya terdapat kayu bakar menyala.

Panas yang dihasilkan oleh tehnik wood fire dapat membuat aroma makanan terasa lebih lezat. Oleh sebab itu, banyak koki internasional yang menggunakan wood fire sebagai tehnik memasak andalan.

Menurut salah satu koki eksekutif internasional, Jacob Burrell, memasak dengan menggunakan tehnik wood fire dapat menghasilkan aroma yang khas dan kematangan makanan yang pas. Hal itulah, yang membuat makanan terasa lebih lezat.

Contoh makanan yang dapat dimasak dengan tehnik wood fire adalah pizza, makanan dari Italia. Sementara itu, seafood akan memiliki aroma lebih wangi setelah minyaknya dibakar menggunakan tehnik wood fire.

Berdasarkan bacaan berjudul "Teknik memasak wood fire" pasangkan informasi-informasi berikut dengan letak paragraf dalam teks tersebut!

Pernyataan		paragraf
banyak koki internasional yang menggunakan wood fire sebagai tehnik memasak andalan.	•	• Paragraf 1
Wood fire merupakan salah satu cara memasak makanan dalam tungku besar.	•	• Paragraf 2
Contoh makanan yang dapat dimasak dengan tehnik wood fire adalah pizza, makanan dari Italia	•	• Paragraf 3
Menurut salah satu koki eksekutif internasional, Jacob Burrell, memasak dengan menggunakan tehnik wood fire dapat menghasilkan aroma yang khas dan kematangan makanan yang pas	•	• Paragraf 4

D. ISIAN SINGKAT

Isilah titik-titik berikut ini dengan jawaban yang tepat !

13. Perhatikan gambar berikut!



Perpindahan panas yang terjadi sesuai gambar adalah ...

14. Perhatikan gambar berikut!



Bentuk interaksi yang sesuai pada gambar tersebut adalah ...

15. Perhatikan gambar berikut!



Pola lantai yang terdapat pada gambar adalah ...

16. Perhatikan ilustrasi berikut!

Meja tempat Ahmad belajar kotor.

Dari ilustrasi tersebut kewajiban Ahmad adalah ...

E. URAIAN

Jawablah pertanyaan berikut dengan tepat!

17. Bacalah paragraf berikut!

Musim panas di seluruh dunia kini terasa lebih panas dibandingkan tahun-tahun sebelumnya, dan akan semakin parah pada akhir abad ini jika polusi karbon terus meningkat. Kondisi ini akan paling teras di kawasan perkotaan. Selain itu, pertumbuhan penduduk yang pesat dan pemanasan global dapat meningkatkan suhu pada daerah perkotaan hingga mencapai titik yang membahayakan kesehatan perekonomian penduduknya.

Buatlah sebuah kesimpulan dari teks tersebut!

Jawaban :

.....

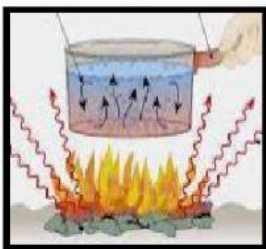
.....

.....

.....

.....

18. Perhatikan gambar berikut!



Tuliskan 3 cara perpindahan kalor beserta contohnya sesuai gambar tersebut!

Jawaban :

.....

.....

.....

19. Perhatikan gambar berikut!



Tuliskan 2 interaksi sosial yang sesuai pada gambar tersebut!

Jawaban :

.....


.....

.....

.....

.....

20. Perhatikan tangga nada berikut!



Tuliskan 2 jenis tangga nada pada gambar tersebut beserta contoh lagunya!

Jawaban :

.....

.....

.....

.....

.....