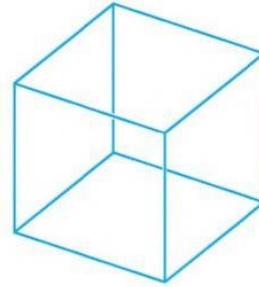




1. Ростик, Даринка і Любчик вирішили зробити модель куба із дроту. Ростик узяв 78 см дроту, Даринка — 80 см, а Любчик — 72 см. Хто з дітей складе модель куба, використавши при цьому весь дріт без залишку?

У куба - _____ ребер.

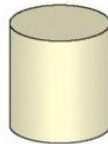
Відповідь: _____




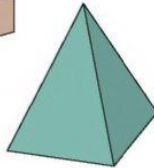
2. З'єднай назви геометричних тіл із відповідним зображенням. 🎅🎅

паралелепіпед

куля



конус



циліндр



піраміда

3. Ростик сфотографував фігури з точки X. Познач світлину, яку він отримає. 🎅🎅

