


CIENCIAS SOCIALES





7.- Marca con una **X** las acciones **que hacen daño** a la salud de nuestra atmósfera.



8.- Une cada símbolo con su significado.

		Tiempo lluvioso.
		Tiempo soleado.
		Tiempo tormentoso.
		Tiempo nuboso.
		Nieve.
		Sol y nubes.

9.- Une cada aparato meteorológico con su foto y su función.

ANEMÓMETRO				Medir la temperatura.
TERMÓMETRO				Conocer la dirección del viento.
VELETA				Medir la cantidad de lluvia que cae.
PLUVIOMETRO				Medir la velocidad del viento.

10.- Escribe **V** si es verdadero y **F** si es falso..



- El tiempo en Murcia será soleado.
- Habrá nubes en el País Vasco.
- Lloverá en Castilla La Mancha.
- Sabemos el tiempo que hará en Andalucía.
- Sabemos el tiempo que hará en Aragón.