

Los cuerpos redondos



CILINDRO



ESFERA



CONO

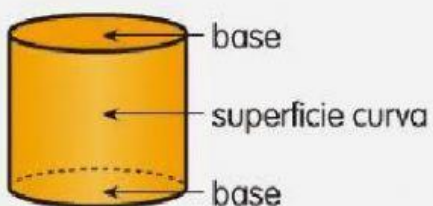
Sus elementos son.....

El cilindro tiene dos bases iguales, que son círculos, y una superficie lateral curva.

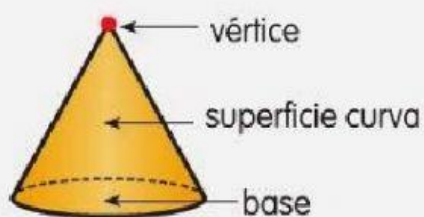
La esfera tiene una única superficie curva.

El cono tiene un círculo como base y una superficie lateral curva.

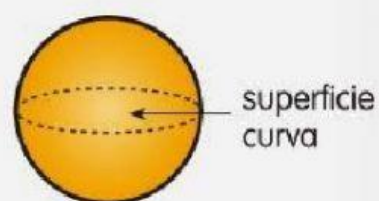
Cilindro



Cono



Esfera



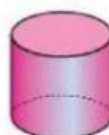
Señala las esferas que encuentres.



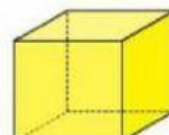
Señala los cuerpos redondos que hay en el recuadro.



prisma



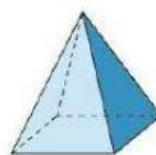
cilindro



cubo



esfera



Pirámide



cono