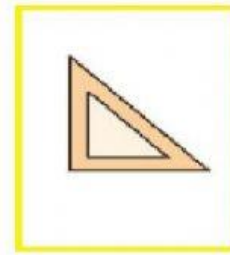
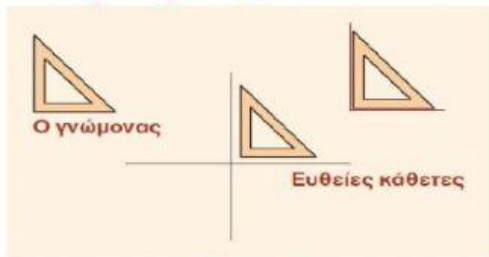


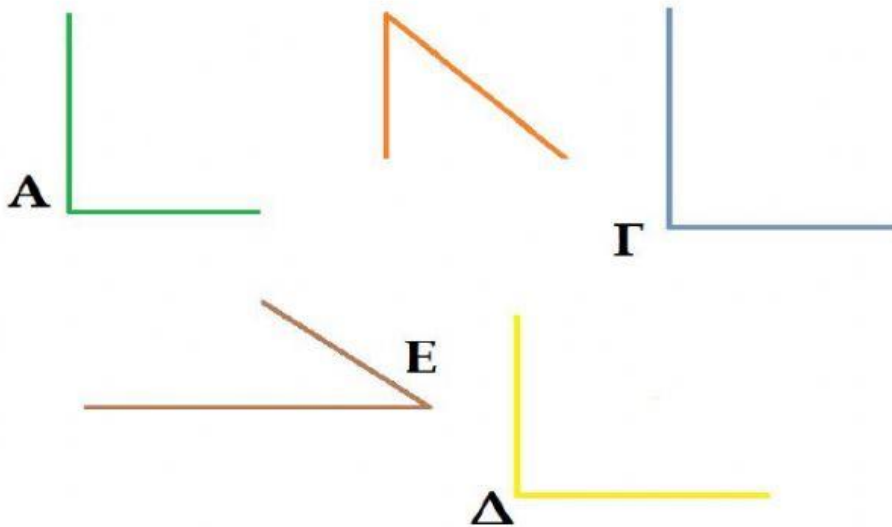
## ΟΡΘΕΣ ΓΩΝΙΕΣ – ΚΑΘΕΤΕΣ ΕΥΘΕΙΕΣ

Διαβάσουμε:



Για να ελέγξουμε αν μια γωνία είναι ορθή ή αν δύο ευθείες είναι κάθετες μεταξύ τους χρησιμοποιούμε το γνώμονα.

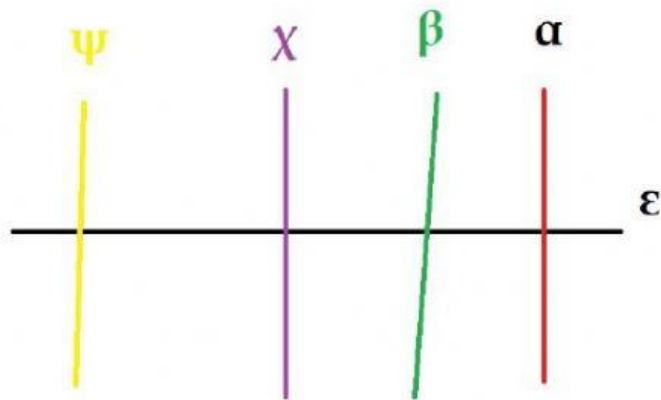
Σύρε το γνώμονα από το κίτρινο πλαίσιο και έλεγξε ποιες γωνίες είναι ορθές.



ΟΡΘΕΣ ΓΩΝΙΕΣ ΕΙΝΑΙ:



Σύρε το γνώμονα από το κίτρινο πλαίσιο και έλεγξε ποιες ευθείες είναι κάθετες στη μαύρη οριζόντια ευθεία ( $\epsilon$ ).



**ΚΑΘΕΤΕΣ ΕΥΘΕΙΕΣ ΣΤΗΝ ΕΥΘΕΙΑ ( $\epsilon$ ) ΕΙΝΑΙ:**

**Για να ολοκληρώσεις με επιτυχία το φύλλο εργασίας τοποθέτησε το γνώμονα στο παρακάτω κόκκινο πλαίσιο.**

