

REFUERZO MIS CONOCIMIENTOS

Profe Any Lu

Jueves 16-02-2023

1.- Escriba tres características de los cuerpos geométricos.

2.- Los cuerpos geométricos se clasifican en dos grupos:

3.- Los prismas y las pirámides pertenecen al grupo de los:

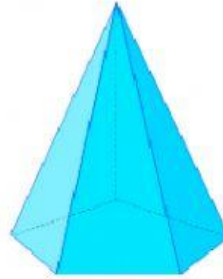

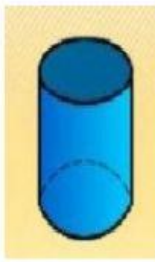
4.- Seleccione las características de un poliedro:

- Tiene superficies curvas.
- Sus bases son polígonos.
- Tienen bases circulares.
- Sus caras laterales son rectángulos.
- Sus caras laterales son triángulos.

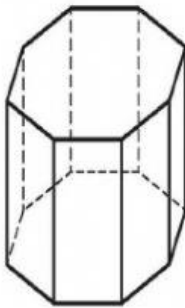
5.- Escriba el nombre del cuerpo geométrico solicitado.

Adivina de que cuerpo se trata:	
Toda su superficie es curva.	<input type="text"/>
Tiene dos bases circulares iguales	<input type="text"/>
Tiene una base circular y una superficie lateral curva.	<input type="text"/>

6.- Seleccione los poliedros.



7.- Cuento las caras, los vértices, las aristas y aplique la fórmula de Euler en el siguiente cuerpo geométrico.



8.- Aproximaciones.

Seleccione el número que corresponda.

- El número 234,678 aproximado a la unidad es:

a. 235,6 b. 234 c.234,6 d.235

- El número 16,896 aproximado al décimo es:

a. 16,99 b. 16,8 c.16,9 d. 16,91

- El número 7,596 redondeado al centésimo es:

a. 7,50 b. 7,60 c.7,590 d. 7,690

9.- Aproxime a la unidad los precios de cada juguete y escribe cuanto se debe pagar por cada uno.



35,75 dólares



25,25 dólares

Por la muñeca se debe pagar

Por el oso se debe pagar