

COSTO UNITARIO, COSTO TOTALE

- 1 Leggi con attenzione, poi completa le regole con il segno di operazione corretto \times o $:$.

1 tavoletta di cioccolata costa € 1,75.

↓
quantità

↓
costo
unitario

4 tavolette costano € 7.

↓
quantità









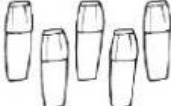


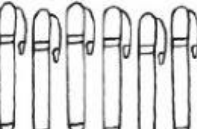
↓
costo
totale

costo unitario quantità = costo totale

costo totale quantità = costo unitario

costo totale costo unitario = quantità

- 2 Osserva i disegni e completa.

 € 0,45	 €	 €	 € 1,20	 €	 €
 €	 € 7,50	 €	 €	 €	 € 12

- 3 Matteo ha una trattoria e deve rifornire la dispensa. Aiutalo a fare i conti.

MERCE	COSTO UNITARIO	COSTO TOTALE	OPERAZIONE
10 pacchi di pasta	€	€ 14	14 10 =
5 pacchi di farina	€ 0,84	€
..... mozzarelle	€ 1,80	€ 9
3 cassette di pesche	€	€ 27
..... bottiglie di olio	€ 4,60	€ 18,40

PERCORSO 3 Misure • UNITÀ 3 Il tempo e il denaro

OdA Acquisire i concetti di costo unitario e costo totale. • **CC** Competenza matematica (applicare il pensiero matematico per risolvere problemi in situazioni quotidiane). • **RD** Matematica (relazioni e dati).