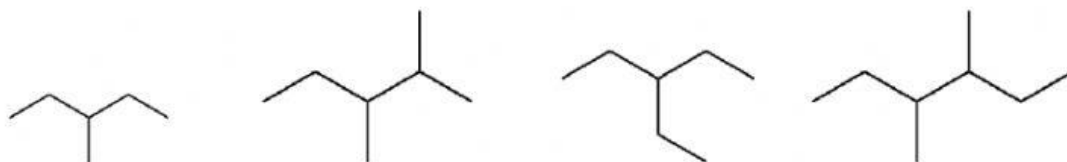
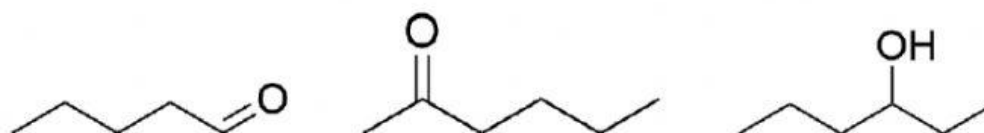
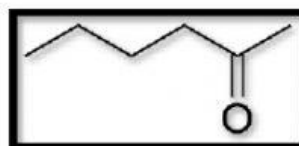


Ejercicio isómeros.

De los compuestos mostrados abajo, indica cuáles son isómeros de:



De los siguientes compuestos, indica cuáles son isómeros de:



De los siguientes compuestos, indica cuáles son isómeros de:

