

RAPPRESENTIAMO IL TERRITORIO

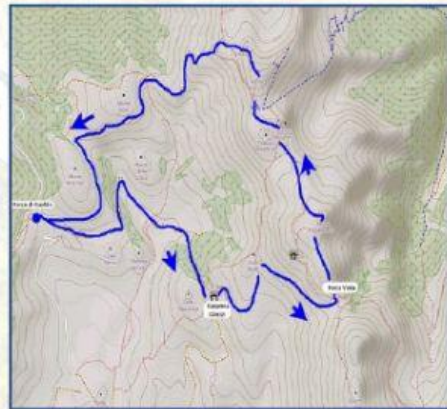
Leggi con attenzione e scegli la risposta giusta:

I _____ e i _____ disegnano i territori utilizzando strumenti come _____ scattate da un aereo o da un _____. In queste rappresentazioni della superficie terrestre il territorio è visto dall'alto e rimpicciolito, cioè _____ in _____. Tali rappresentazioni si chiamano _____.

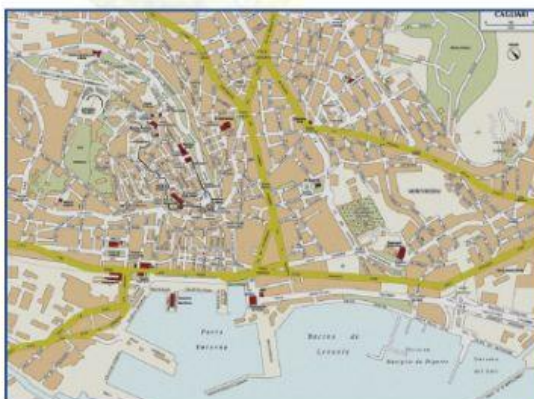
Ci sono diversi tipi di carte: _____ e _____ per rappresentare territori poco estesi (paesi, boschi etc.) e hanno molti particolari,



Questa foto di Autore sconosciuto è concesso in licenza da [CC BY-NC-ND](#)



Questa foto di Autore sconosciuto è concesso in licenza da [CC BY-NC-ND](#)



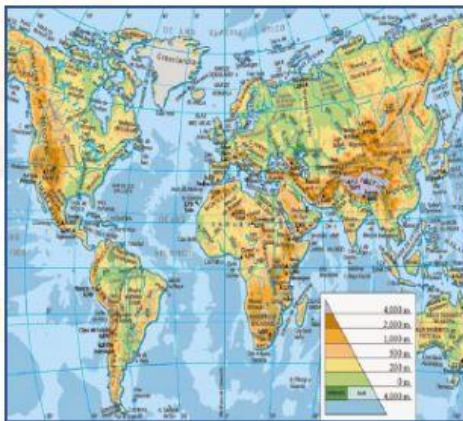
le _____ ,
che rappresentano una zona più vasta (per
esempio una città),

le carte _____, che rappresentano territori molto ampi (per esempio l'Italia, l'Europa),



Questa foto di Autore sconosciuto è concesso in licenza da CC BY-NC-ND

i _____ e il _____, che rappresentano tutta la Terra.

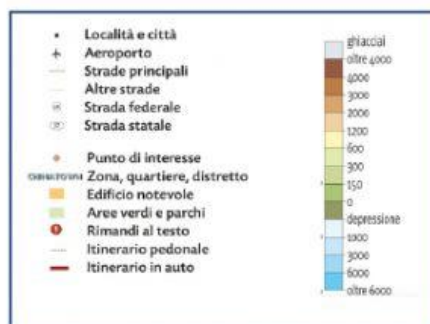


Questa foto di Autore sconosciuto è concesso in licenza da CC BY-SA-NC



Questa foto di Autore sconosciuto è concesso in licenza da CC BY-SA-NC

Sulle carte sono riportati solo gli elementi più importanti, che vengono indicati con simboli spiegati nella _____. Ecco alcuni esempi:



Filigrana: Foto di via href="https://psabay.com/it/users/thedigitalartist-202248/?utm_source=link-attribution&utm_medium=referral&utm_campaign=image&utm_content=1958129">https://psabay.com/it/users/thedigitalartist-202248/?utm_source=link-attribution&utm_medium=referral&utm_campaign=image&utm_content=1958129">Pete Unforth/ da https://psabay.com/it/?utm_source=link-attribution&utm_medium=referral&utm_campaign=image&utm_content=1958129">Pisabay/