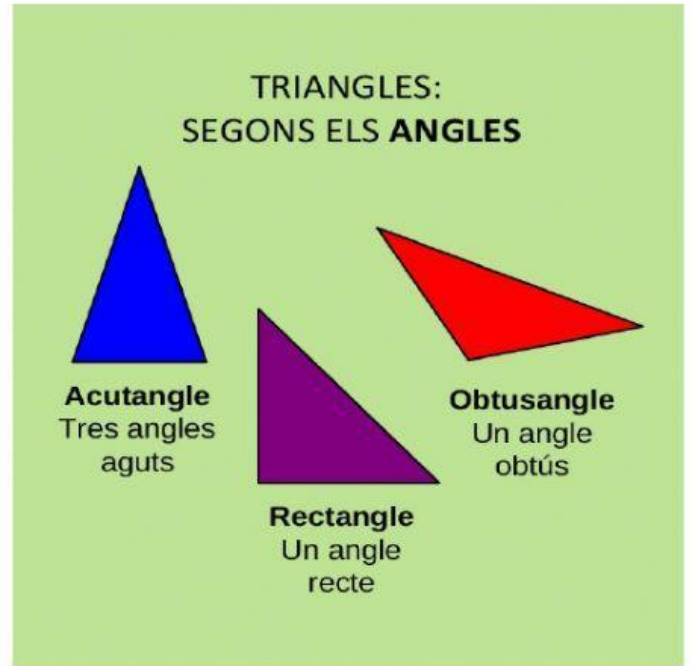


TRIANGLES

RECORDA



1. Uneix amb fletxes.

Acutangle

Isòsceles

Rectangle

Escalé

Equilater

Obtusangle

3 costats desiguals

3 costats iguals

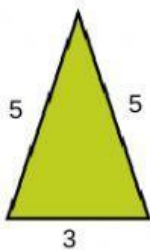
2 costats iguals

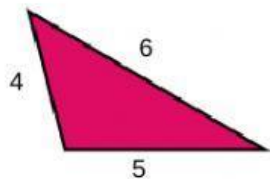
3 angles aguts

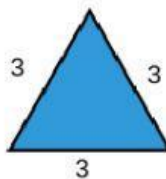
1 angle obtús

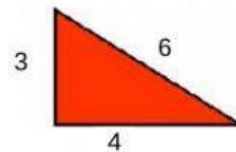
1 angle recte

2. Observa les mesures dels **costats** de cada triangle i selecciona quin tipus de triangle és.

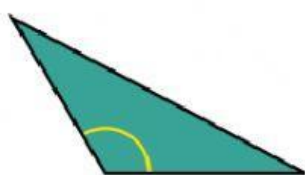




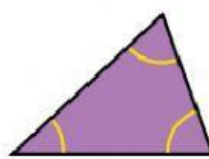


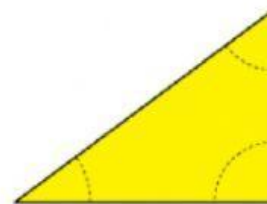


3. Observa els **angles** dels següents triangles i selecciona de quin tipus és.

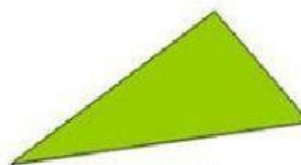









4. Arrosega els triangles al lloc que li correspon.



isòsceles i acutangle

equilàter i acutangle

escalé i obtusangle

escalé i rectangle

5. Vertader o Fals ?

- Un mateix triangle pot tindre un angle recte i un altre obtús.
- Un mateix triangle pot tindre dos angles rectes.
- Un mateix triangle pot tindre tres angles aguts.