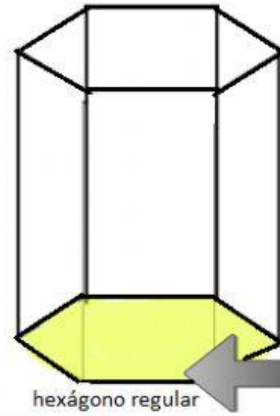
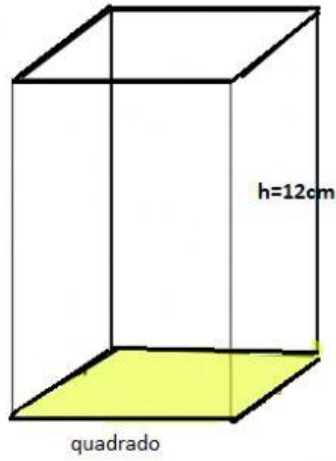
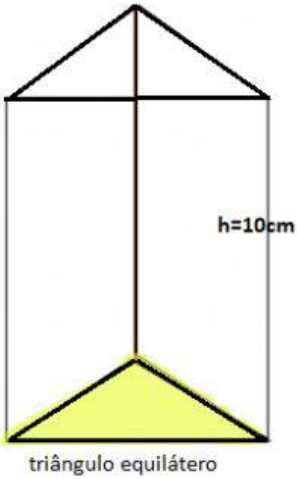


# Prismas prof. Hipácia



perímetro da base = 18cm

Qual a área da base?

Qual a área lateral?

Qual a área total?

Qual o volume?

perímetro da base = 20cm

Qual a área da base?

Qual a área lateral?

Qual a área total?

Qual o volume?

aresta da base = 20cm

Qual a área da base?

Qual a área lateral?

Qual a área total?

Qual o volume?

Altura h

h=28cm