



MATEMÁTICAS

Recuerda escribir las respuestas sólo con número.


- 1 Cuenta y escribe cuál es el área de cada figura.



- 2 Calcula el área de cada triángulo a partir del rectángulo o cuadrado correspondiente.


HAZLO ASÍ

- Área del rectángulo.



$$\text{Área} = 3 \times 2 = 6 \text{ } \square$$

- Área del triángulo.



Observa que el área del triángulo es la mitad del área del rectángulo.

$$\text{Área del triángulo} = \frac{\text{Área del rectángulo}}{2} = \frac{6 \text{ } \square}{2} = 3 \text{ } \square$$

