



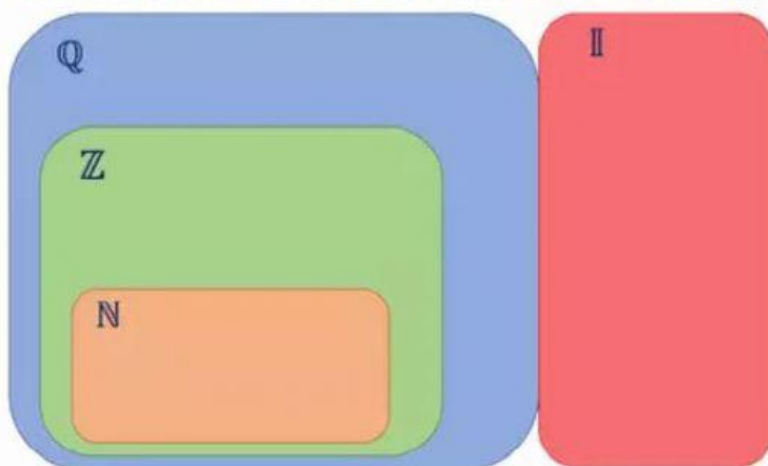
UNIDAD EDUCATIVA "SAN JOAQUÍN"
AÑO LECTIVO 2022-2023

MATEMÁTICA					
NIVEL:	BÁSICA SUPERIOR	CURSO:	OCTAVO	AÑO LECTIVO:	2022 - 2023
DOCENTE	MGTR. VILMA DUCHI F.	FECHA DE REPORTE		17 – OCT– 2022	
ÁREA	MATEMATICA				

Evaluación Diagnóstica

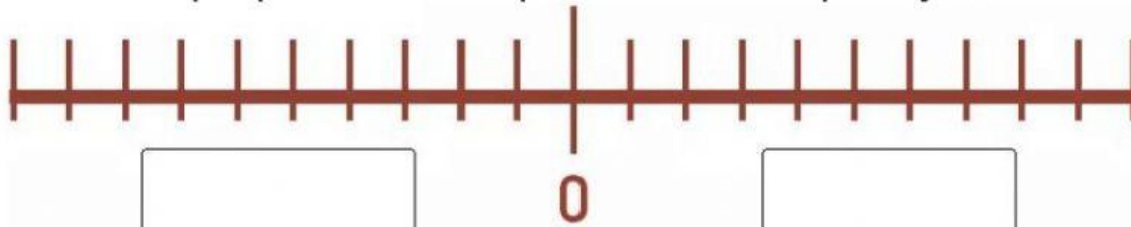
1. ¿Qué letra representa los números enteros?

CLASIFICACIÓN DE LOS NÚMEROS REALES \mathbb{R}



☐ Q ☐ Z ☐ N ☐ I

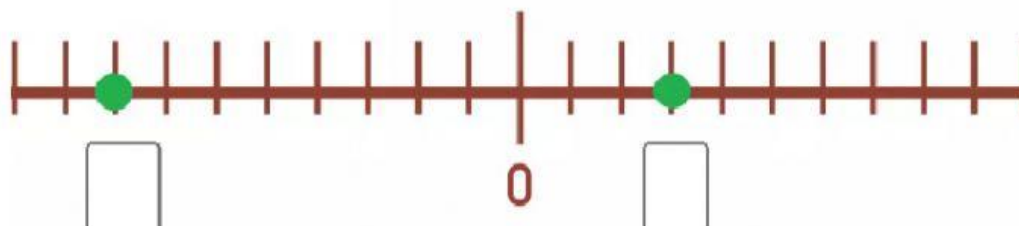
2. Escriba que tipos de números se pueden escribir a la izquierda y derecha del cero.



3. Escriba los números que corresponden en cada punto.

Si el número es positivo obvie el signo.

Recta numérica





4. Identifique la respuesta incorrecta.

☐ a $+(+5) = 5$

☐ b $+(-5) = -5$

☐ c $-(+5) = -5$

☐ d $-(-5) = -5$

5. Identifique la respuesta incorrecta.

☐ a $-(-12) = 12$

☐ b $+(-12) = 12$

☐ c $+(+5) = 12$

☐ d $-(+12) = -12$