

# Cuestionario

¿Cuántos jugadores deben estar en la cancha en cada uno de los siguientes deportes? Une con líneas el deporte y su respuesta correcta

Voleibol  
Baloncesto  
Fútbol

11 jugadores por equipo  
6 jugadores por equipo  
5 jugadores por equipo



Recuerden que pueden haber muchos jugadores en cada equipo, pero solo pueden estar en la cancha el numero indicado en el reglamento, los demás jugadores esperan en la banca de suplentes para poder hacer cambios.

**Selecciona V si es verdadero y F si es falso según la afirmación**

El objetivo del fútbol es lograr la mayor cantidad de puntos haciendo muchas canastas

V

F

El voleibol se juega pasando una pelota por encima de una red elevada usando las manos al golpearla, no se puede retener la pelota.

V

F

En el golf se cambia el palo para dar diferentes golpes según la distancia y el efecto que se necesite dar a la pelota para avanzar hacia cada un de los hoyos donde se deberá introducir.

V

F

El entrenador es la persona que dirige el juego y sanciona las faltas al reglamento cometidas por los jugadores

V

F

En natación los competidores no deben tocar el piso de la piscina con los pies durante toda la carrera

V










F

Tanto el ciclismo como el atletismo solo se organizan en una pista

V

F

**Elige los implementos deportivos que se utilizan en los deportes indicados en cada fila**

TENIS			
LEVANTAMIENTO DE PESAS			
ARTES MARCIALES			
BOX	