



# RESOLUCIÓN DE PROBLEMAS

## 1. ¿Cuántas hormigas hay más que mariquitas?

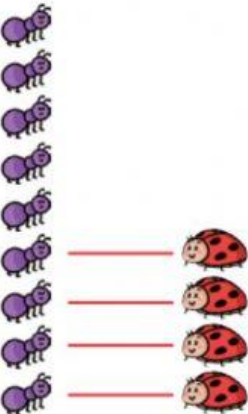


Hay ---- hormigas  
más que mariquitas.

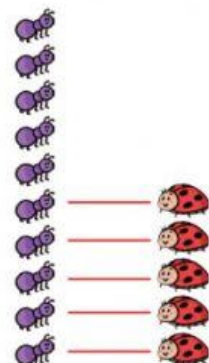


Hay ---- hormigas  
más que mariquitas.

## 2. ¿Cuántas hormigas hay más que mariquitas?



Hay ---- hormigas  
más que mariquitas.



Hay ---- hormigas  
más que mariquitas.