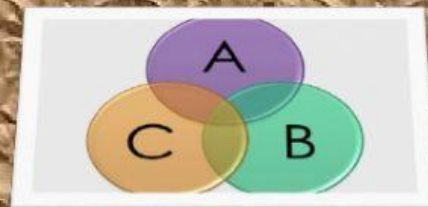


EJERCICIOS

OPERACIONES DE CONJUNTOS



1.- ENCUENTRA LA UNIÓN DE LOS CONJUNTOS:

$$A = \{0, 2, 4, 6, 8, 10\}$$

$$B = \{1, 3, 5, 7, 9\}$$

$$C = \{2, 4, 6, 8\}$$

$$A \cup B = \{ \quad \quad \quad \}$$

$$B \cup C = \{ \quad \quad \quad \}$$

2.-HALLAR LAS SIGUIENTES OPERACIONES:

$$A = \{2, 4, 8\} \quad C = \{1, 10, 50\}$$

$$B = \{2, 6, 18\} \quad D = \{2, 6, 18, 10, 30, 90\},$$

$$a) A \cup B = \{ \quad \quad \quad \}$$

$$d) B - C = \{ \quad \quad \quad \}$$

3.- UNIR CON LÍNEAS EL NOMBRE CORRECTO DE CADA SÍMBOLO.

\cap

INTERSECCIÓN

\cup

DIFERENCIA

$-$

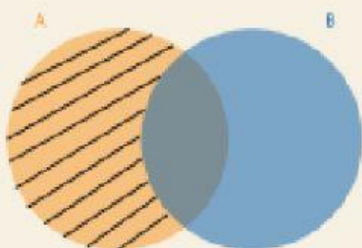
UNIÓN

$+$

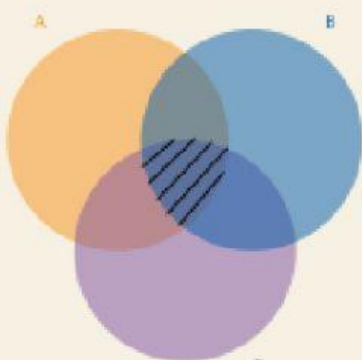
SUMA

4.- OBSERVA EL DIAGRAMA Y ESCRIBE LA OPERACIÓN QUE LO REPRESENTA.

a)



b)



c)



d)

