

LATIHAN MEMBUAT SOAL PAKAI LIVE WORKSHEET

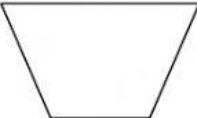
**Pilihan Ganda**

1. Perpotongan dua buah garis adalah .....
- a. titik                      b. garis                      c. sudut                      d. bidang

**Pilihan Ganda Majemuk**

2. Manakah pernyataan-pernyataan di bawah ini yang benar :
- a. dua garis sejajar tidak akan pernah berpotongan
- b. dua garis yang berpotongan tegak lurus membentuk sudut tumpul
- c.  $120^\circ$  termasuk sudut tumpul
- d. jika dua sudut saling berkomplemen maka jumlah kedua sudut tersebut  $90^\circ$

**Benar atau Salah pernyataan pada soal nomer 3 dibawah ini**

3.  Nama bangun di samping adalah persegi panjang

**Menjodohkan**


4. Tariklah garis dari gambar bangun bagian kiri ke sifat-sifat di bagian kanan

BANGUN


Sifat-sifat



Memiliki satu sumbu simetri



tidak memiliki garis lurus



Memiliki empat buah sudut

**Isian Singkat**

5. Suplemen dari sudut  $65^\circ$  adalah ..... $^\circ$