

LKPD TEMA 5 SUBTEMA 2

KELAS 1

UPT SD NEGERI 238 GRESIK

Nama: _____

Mari menonton video pembelajaran berikut ini!



tariklah garis untuk menghubungkan lambang bilangan dengan nama bilangannya!

25

tiga puluh

26

dua puluh delapan

27

dua puluh enam

28

dua puluh lima

29

dua puluh tujuh

30



dua puluh sembilan

Nilai Tempat Bilangan



Petunjuk: Jawablah sesuai dengan gambarnya!

Puluhan	Satuan
	
_____ puluhan	_____ satuan



Puluhan	Satuan
	
_____ puluhan	_____ satuan




Puluhan	Satuan
	
_____ puluhan	_____ satuan





Nilai Tempat Bilangan

Petunjuk: Jawablah sesuai dengan gambarnya!

Puluhan	Satuan
	
_____ puluhan	_____ satuan



Puluhan	Satuan
	
_____ puluhan	_____ satuan





Puluhan	Satuan
	
_____ puluhan	_____ satuan




Nilai Tempat Bilangan



Petunjuk: Jawablah sesuai dengan gambarnya!

Puluhan	Satuan
	
_____ puluhan	_____ satuan



Puluhan	Satuan
	
_____ puluhan	_____ satuan



Puluhan	Satuan
	
_____ puluhan	_____ satuan



Tarik dan taruh jawaban di kotak yang sesuai

Bilangan	Nama Bilangan
32	
33	
34	
35	
36	
37	
38	
39	
40	

empat puluh tiga puluh empat tiga puluh dua
tiga puluh lima tiga puluh sembilan tiga puluh tujuh
tiga puluh satu tiga puluh delapan
tiga puluh enam tiga puluh tiga

