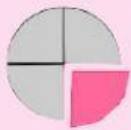


OPERACIONES con FRACCIONES



**Visualiza el vídeo
con la explicación**

(haz click en la imagen)



Realiza las siguientes sumas de fracciones:

$$\frac{1}{8} + \frac{6}{8} = \underline{\quad}$$

$$\frac{4}{3} + \frac{6}{3} = \underline{\quad}$$

$$\frac{7}{2} + \frac{9}{6} = \underline{\quad}$$

$$\frac{4}{3} + \frac{6}{4} = \underline{\quad}$$

$$\frac{10}{5} + \frac{5}{7} = \underline{\quad}$$

$$\frac{12}{2} + \frac{8}{2} = \underline{\quad}$$



Realiza las siguientes restas de fracciones:

$$\frac{6}{8} - \frac{2}{8} = \underline{\hspace{2cm}}$$

$$\frac{15}{3} - \frac{6}{3} = \underline{\hspace{2cm}}$$

$$\frac{7}{2} - \frac{9}{6} = \underline{\hspace{2cm}}$$


$$\frac{6}{4} - \frac{4}{3} = \underline{\hspace{2cm}}$$

$$\frac{10}{5} - \frac{5}{7} = \underline{\hspace{2cm}}$$


$$\frac{12}{2} - \frac{8}{2} = \underline{\hspace{2cm}}$$

Une cada operación con la representación correspondiente:


$$\frac{1}{8} + \frac{6}{8}$$



$$\frac{3}{2} - \frac{2}{2}$$



$$\frac{5}{10} + \frac{3}{10}$$



$$\frac{9}{6} - \frac{6}{6}$$

