

# FICHA SMD. "ELIJE LA UNIDAD ADECUADA"

**EJERCICIO 1** tienes que elegir la **unidad adecuada** para calcular estas **LONGITUDES**

*Tamaño de un móvil*



*Altitud de una montaña*



*Tamaño de un campo de fútbol*



*Tamaño de una hormiga*



*Distancias entre ciudades de España*



*Pista de atletismo*



*Tamaño de una TV*



*Altura de una persona*



**EJERCICIO 2** tienes que elegir la **unidad adecuada** para calcular estas **SUPERFÍCIES**

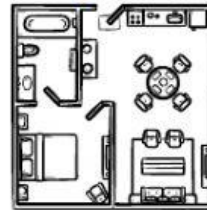
*Superficie de una hoja*



*Superficie de España*



*Superficie de un piso*

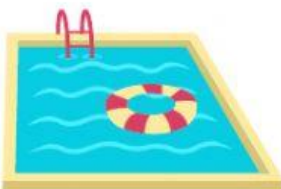


*Superficie de una baldosa*



**EJERCICIO 2** tienes que elegir la **unidad adecuada** para calcular **LO QUE CABE EN:**

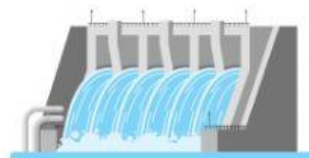
*Una piscina*



*En un botellín de agua*



*En un pantano*



*En un camión cisterna*

