




### 1. Relaciona con flechas.



Trapezio ☐

☐ lados paralelos dos a dos

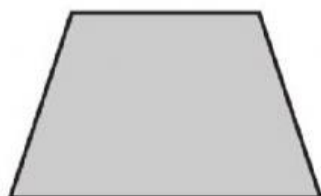
Trapezoide ☐

☐ solo dos lados paralelos

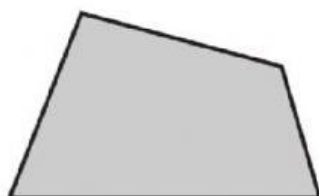
Paralelogramo ☐

☐ ningún lado paralelo

### 2. Escribe paralelogramo, trapezio o trapezoide según corresponda.



\_\_\_\_\_



\_\_\_\_\_



\_\_\_\_\_


### 3. Escribe el nombre de cada paralelogramo:



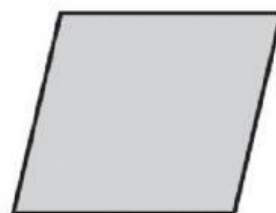
\_\_\_\_\_



\_\_\_\_\_



\_\_\_\_\_



\_\_\_\_\_

### 4. Completa la tabla con el nombre de los paralelogramos: cuadrado, rectángulo, rombo, romboide

	Los 4 lados iguales	Los lados iguales 2 a 2
Los 4 ángulos rectos		
Los ángulos iguales 2 a 2		

