




هو نسبة الماء على توكب الأرض

هو نسبة اليابسة على الأرض

الغازات المحيطة بالكرة الأرضية.

ما أغلفة الأرض؟ ←

( عددي اشكال اليابسه كتابه )



عددي بعض مصادر الماء العذب والمالح على الأرض؟

١- ..... ٢- .....

اختاري الإجابة الصحيحة مما يلي:

- ١- يوجد الماء العذب بالطبيعه في ( البحر - المحيط - الأنهار )
- ٢- يعتبر ماء المحيط ماء ( عذب - مالح )
- ٣- الماء المالح لا يصلح لـ ( الشرب - السباحة )

صح ام خطأ:

- ١- الصخور هي أجزاء صلبة غير حية توجد في الأرض ( )
- ٢- توجد المعادن في الماء فقط ( )
- ٣- تستخدم الصخور والمعادن لصنع الأدوات منذ القدم ( )

عددي أنواع التربة (كتابه)؟

٣- التربة

٢- التربة

١- التربة