


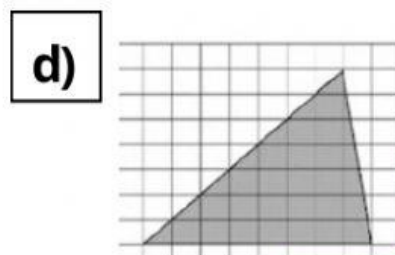
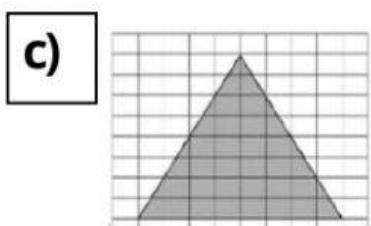
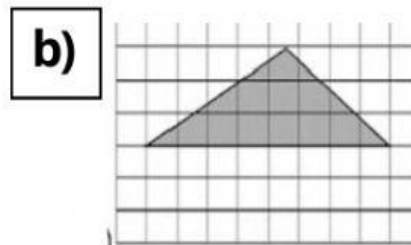
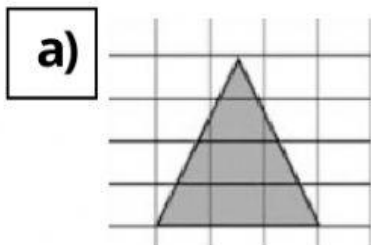
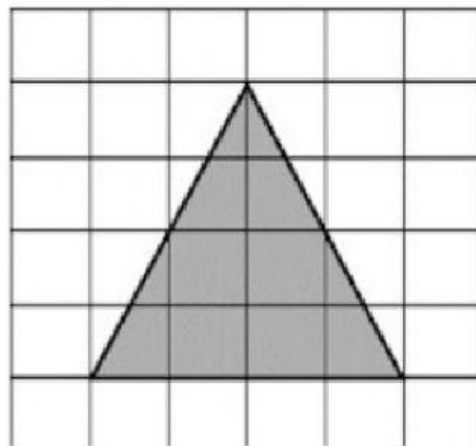
Nome:.....

Ampliação e Redução de Figuras Poligonais Malha Quadriculada



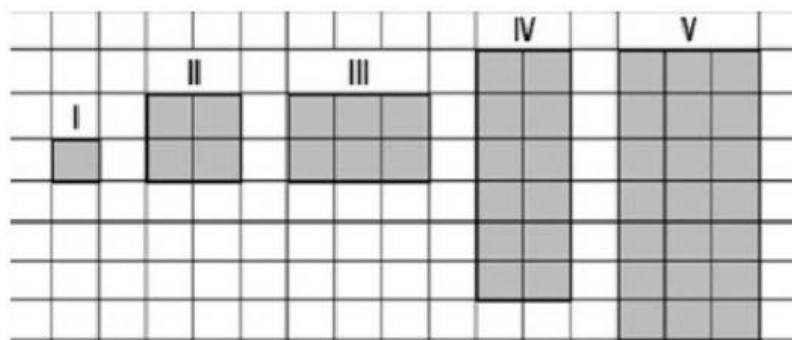
Exercícios

1 - Marque a alternativa correta sobre ampliação e redução de figuras poligonais: observe a imagem abaixo e marque a opção que mostra a alternativa que apresenta a ampliação da figura em questão



2 - Preencha os espaços em branco respondendo a seguinte situação: observe a imagem abaixo e coloque no espaço a imagem que é a redução da figura II (só basta o número).

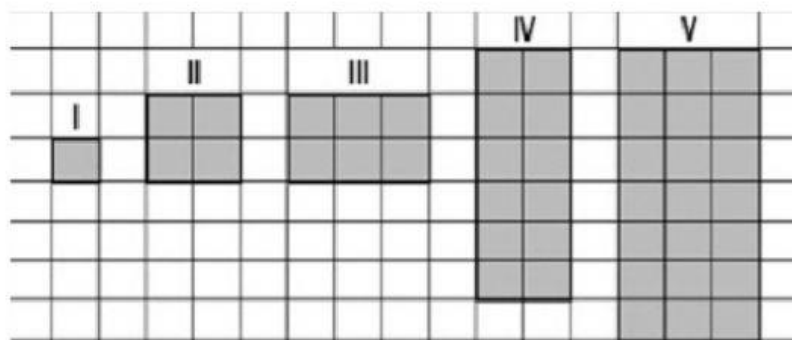
a) Coloque no espaço a imagem que é a redução da figura II (só basta o número).




R -



b) Coloque no espaço a imagem que é a ampliação da figura II (só basta o número).



R -



3 - Ligue a figura a opção correta. Pedro desenhou um quadrado em uma malha quadriculada. Assim, ligue a figura a imagem que representa a sua redução.

