
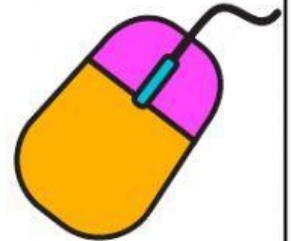


Nome:.....

Adição e subtração de números racionais



Exercícios



1 - Marque a alternativa correta sobre adição e subtração de números decimais: sobre a forma correta de calcular cada operação...

a) Vírgula abaixo de vírgula, somente na adição;

b) Vírgula abaixo de vírgula, somente na subtração;

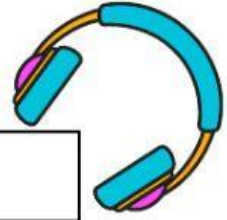
c) Vírgula abaixo de vírgula e caso falte número para acrescentar, não se coloca zero na subtração;

d) Vírgula abaixo de vírgula, tanto na adição quanto na subtração, e caso falte número para completar, se acrescenta zero.



2 - Preencha o espaço em branco respondendo a seguinte situação: uma pessoa foi a feira com R\$ 100,00, pagou R\$ 12,00 em um 1 quilo de farinha de mandioca, comprou duas dúzias de bananas, sendo que a dúzia de banana custava R\$ 8,50. Na volta para casa ela entrou em um mercado e pegou 2 kg de açúcar gastando mais de R\$ 5,00. Quando chegou em casa ela contou o dinheiro dos trocos recebidos. Qual foi o total da soma dos trocos recebidos? (só basta a resposta).

R -



3 - Ligue as expressões a suas respostas:

$0,02 + 3,12 =$

$49,7 - 13,2 =$

$3,001 + 0,143 =$

$75,2 - 8,8 =$

$128,3 - 1,05 =$

$0,8 + 0,3 =$

$1,25 + 1,62 =$

$8,54 - 6,25 =$



66,4

2,87

3,14

1,1

2,29

36,5

3,144

127,25