

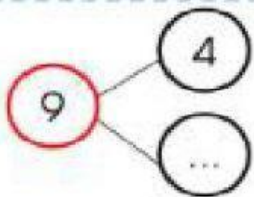
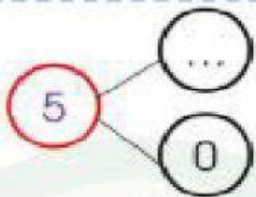
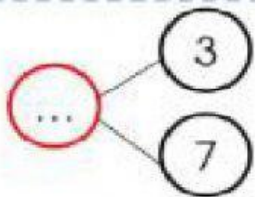
Ôn Toán HK I - 1

Câu 1. Tính :

$5 + 5 = \dots$	$9 + 1 = \dots$	$10 - 2 = \dots$	$7 + 3 - 8 = \dots$
$6 + 3 = \dots$	$1 + 9 = \dots$	$10 - 3 = \dots$	$6 + 1 + 3 = \dots$
$4 + 5 = \dots$	$3 + 7 = \dots$	$10 - 4 = \dots$	$10 - 7 + 3 = \dots$

Câu 2. Đánh dấu \checkmark vào câu trả lời đúng:

a. Số?

		
<input type="checkbox"/> 4 <input type="checkbox"/> 5 <input type="checkbox"/> 6	<input type="checkbox"/> 5 <input type="checkbox"/> 4 <input type="checkbox"/> 0	<input type="checkbox"/> 10 <input type="checkbox"/> 9 <input type="checkbox"/> 8

b. Phép tính $10 - 4$ có kết quả là:

4 6 8

c. Cho các số: 4, 1, 9, 0. Số lớn nhất là:

0 4 9

d. Số quả trứng trong hình bên có là:



5 7 9

e. Dãy số nào được sắp xếp từ bé đến lớn:

4, 7, 3, 9 3, 4, 9, 7 3, 4, 7, 9