

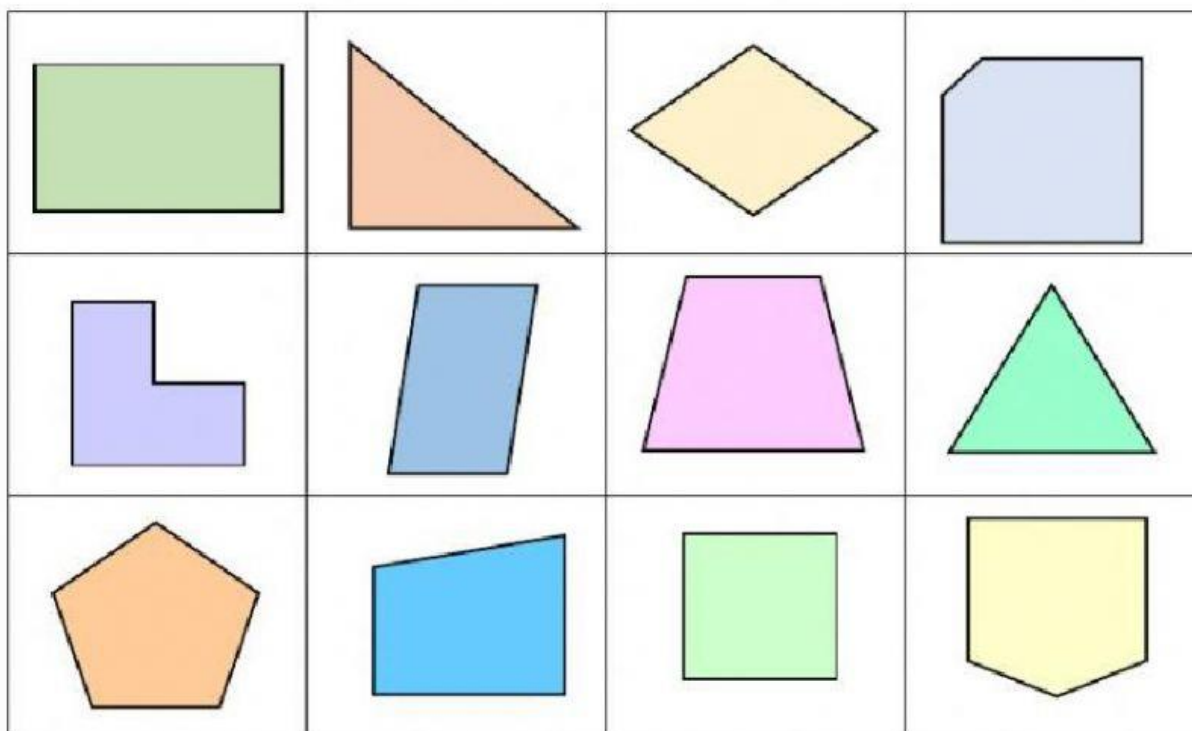
EXAMEN FINAL DE MATEMÁTICA

Hijo(a) del Rey: _____ Grado: ____° grado


Profesora: Cindya Condor Moreno

Fecha: 21/12/22

I. Selecciona los cuadriláteros.



II. Calcula el perímetro de los siguientes polígonos.




6 CM

PERÍMETRO CM



4 CM

PERÍMETRO CM



3 CM

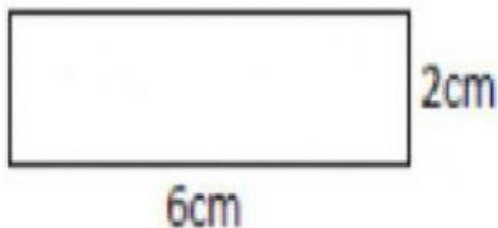
PERÍMETRO CM



III.

Halla el área y el perímetro de las siguientes figuras.

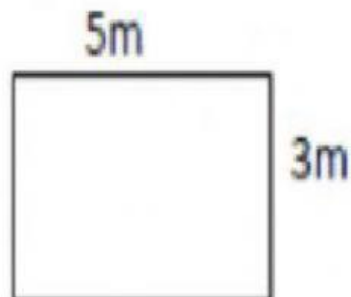
1.



Perímetro: _____

Área: _____

2.

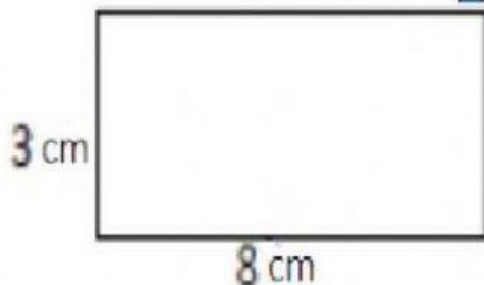


Perímetro: _____

Área: _____



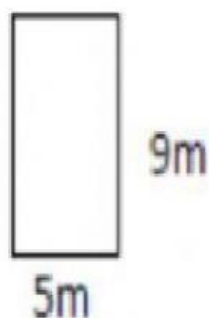
3.



Perímetro: _____

Área: _____

4.



Perímetro: _____

Área: _____

IV. Completa:

- Instrumento para medir la masa: _____

V. -Observa las pesas y elige el peso correcto.



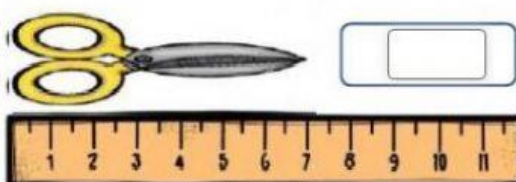
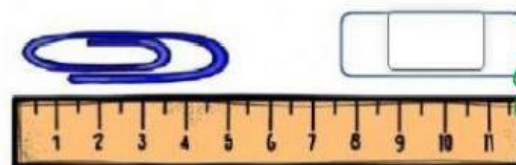
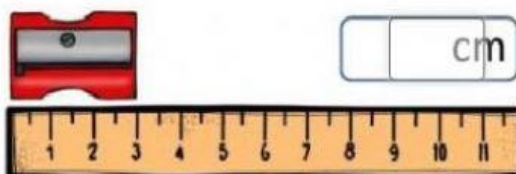






VI.

1 Observa la regla y escribe cuántos centímetros mide cada objeto.



Largo: cm

Ancho: cm