


Nome:



Simetria de reflexão

Exercícios



1 - Marque a alternativa correta sobre simetria de reflexão: qual das imagens abaixo se trata de uma simetria de reflexão?

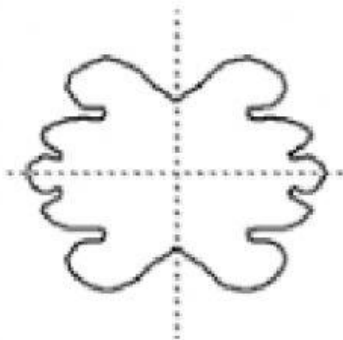
a)




b)



c)



d)



2 - Preencha o espaço em branco respondendo a seguinte situação: quando um eixo divide uma figura em dois, temos duas imagens que se refletem perfeitamente. Estamos falando de....

R -



3 - Ligue a simetria de reflexão a imagem correta que corresponde ao seu conceito.



Simetria de reflexão

