

Bangun Ruang

Nama :

No. Absen :

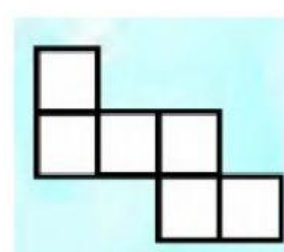
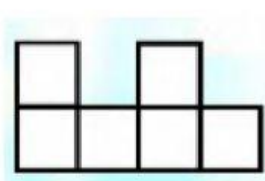
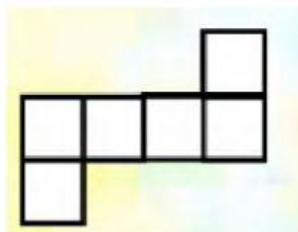
A. Perhatikan Video Berikut!





B. Kerjakan soal berikut ini!

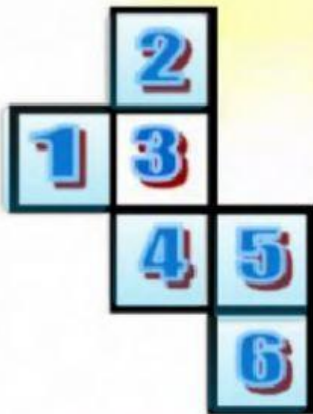
1 Pilihlah jaring-jaring bangun ruang yang tepat!

a) jaring-jaring kubus



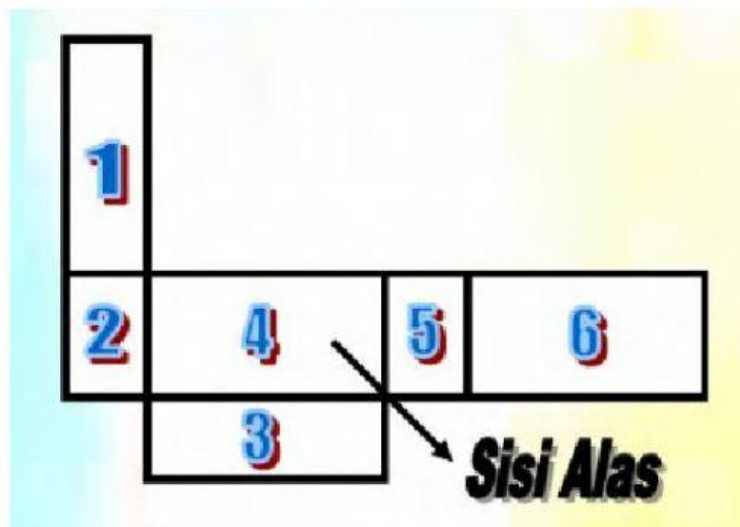


Jika nomor 3 adalah alasnya maka, nomor berapakah yang merupakan sisi atapnya ? (klik pada nomor yang menurut kalian benar)



3

Perhatikan gambar berikut!



a. Nomor 6 adalah sisi kanan.

Benar

Salah

b. Gambar di atas merupakan jaring-jaring balok.

Benar

Salah

c. Nomor 2 adalah sisi kiri.

Benar

Salah

d. Nomor 1 adalah sisi belakang.

Benar

Salah

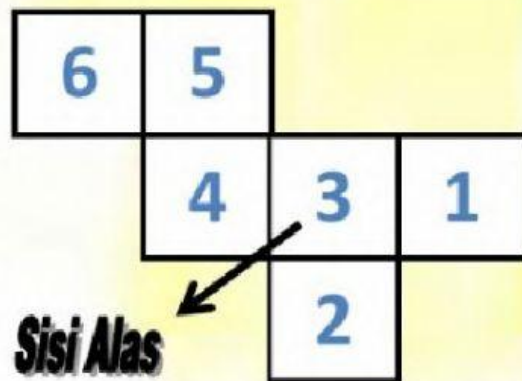
e. Nomor 5 adalah sisi kiri.

Benar

Salah

4

Perhatikan gambar berikut!



a. Gambar diatas adalah jaring-jaring balok.

Benar

Salah

b. Nomor 5 merupakan tutup.

Benar

Salah

c. Nomor 2 merupakan sisi depan.

Benar

Salah

d. Nomor 4 adalah sisi kanan.

Benar

Salah



e. Nomor 1 adalah sisi kanan

Benar

Salah

5 Perhatikan gambar berikut!

a. Agar menjadi jaring-jaring kubus, bangun persegi yang harus dihilangkan adalah bangun persegi nomor berapa ?



b. Agar menjadi jaring-jaring balok, bangun datar yang harus dihilangkan adalah bangun datar nomor berapa ?

