



EXAMEN MENSUAL DE ARITMÉTICA

Hijo(a) del Rey: _____ Grado: ____° grado

Profesora: Cindya Condor Moreno

Fecha: 23/11/22

I. Cuenta y completa.



lados

vértices



lados

vértices



lados

vértices




lados

vértices

II. Escribe en cada caso la fracción que representa cada gráfico.

a)



=

b)



=

c)



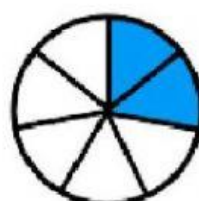
=

III. Escribe la fracción que corresponde:

I



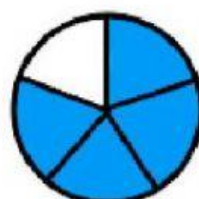
$\frac{2}{3}$



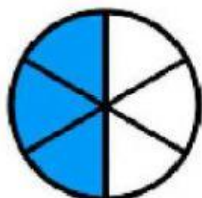
—



—



—



—



—

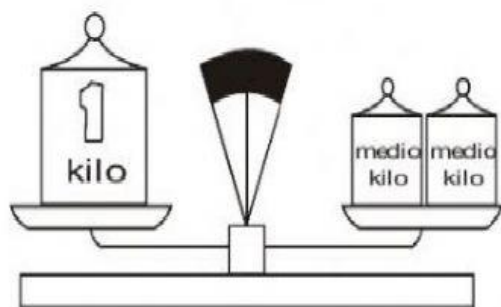


Hijos del Rey
I.E.P.

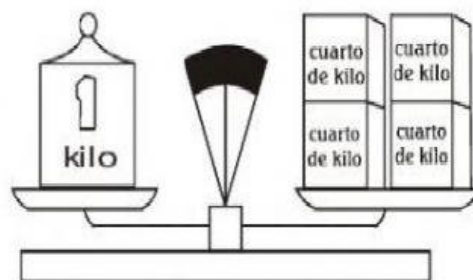
Yo Soy Jesús

Una educación en valores formando el carácter del niño

IV. Recuerda y responde:




1 kilo = kilos



1 kilo = kilos

V.

✓ ¿Qué instrumentos sirven para medir la longitud? Marca.



VI. Elige la hora.



VII. ■ Fíjate en las balanzas y completa.



Pesa más la



Pesa menos la



Pesa menos la

VIII. Escribe la cantidad y el tipo de medida.

Escribe la cantidad y el tipo de medida.







“FELIZ NAVIDAD Y UN BENDECIDO AÑO 2023”