



Componer y descomponer números II

Nombre: _____ Curso: _____

1. Completa para formar el número como lo indican los helados.




5	
3	




9	
	5



7	
0	



6	
	4



4	
	2

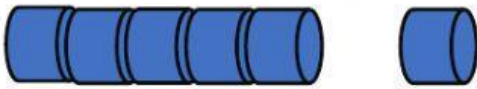


3	
1	

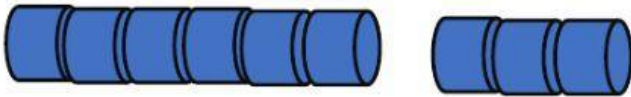
2. Une la respuesta correcta.



$$\boxed{3} + \boxed{}$$



$$\boxed{5} + \boxed{}$$



$$\boxed{6} + \boxed{}$$

3. Escribe.

a) 2 y 5 son

b) 4 y 4 son

c) 3 y son 9

d) 7 y son 10

e) y 1 son 6

f) y 0 son 5