



**PEMERINTAH KABUPATEN SINJAI
DINAS PENDIDIKAN**

SD NEGERI 68 MANIPI KEC. SINJAI BARAT

Jl. Lembah Harapan Manipi Lingk. Sapotoayya Kel. Tassililu, Kec. Sinjai Barat ☒ 92653 Manipi

SOAL PENILAIAN AKHIR SEMESTER (PAS)

Tema : 5 "Wirausaha"
Kelas/ Smt : VI (Enam)/ Ganjil
Tahun Pelajaran: 2022/2023
Nama Siswa :

Mapel	KD	No. Soal	Nilai	Ketuntasan	TTD Guru	TTD Orang Tua
PPKn		1, 5, 13				
B. Indo		2, 9, 14, 17,				
IPA		3, 6, 10, 15, 18				
IPS		4, 7, 11, 19				
SBdP		8, 12, 16, 20				

A. PILIHAN GANDA

Jawablah pertanyaan berikut dengan memberi tanda silang (×) pada pilihan jawaban yang paling benar!

1. Perhatikan teks berikut!

Keberagaman masyarakat adalah segala sesuatu yang berhubungan dengan keanekaragaman atau perbedaan dalam suatu masyarakat atau lingkungan tertentu. Keberagaman terjadi karena beribu-ribu jenis suku yang ada di Indonesia. Semuanya bercampur menjadi satu karena kita hidup dengan berbagai macam orang dari beberapa daerah.

Penyebab keberagaman masyarakat Indonesia berdasarkan teks tersebut adalah....

- A. perbedaan kondisi alam
- B. perbedaan suku bangsa
- C. keadaan transportasi dan komunikasi
- D. penerimaan masyarakat terhadap perubahan

2. Perhatikan contoh format Formulir Pendaftaran Kegiatan Ekstrakurikuler berikut!

**FORMULIR PENDAFTARAN
KEGIATAN EKSTRAKURIKULER**

1. **Identitas diri**

a. Nama Lengkap :

b. Umur :

c. Kelas :

d. No. Induk Siswa (NIS) :

2. **Jenis Ekstrakurikuler yang akan diikuti:**

Pilihan 1:

Pilihan 2:

Tanda tangan,
(Nama lengkap)

Catatan: Formulir yang sudah ditandatangani serahkan kepada guru kelas.

- Nama lengkap yang ditulis di bawah tanda tangan pada formulir tersebut memuat informasi berupa
- nama orang yang mengisi formulir
 - nama orang tua pengisi formulir
 - nama wali yang mengisi formulir
 - nama pembuat formulir
3. Perhatikan langkah-langkah percobaan berikut!
- Dekatkan magnet ke paku besar dengan jarak 6 cm
 - Dekatkan paku kecil ke paku besar
 - Catat pada tabel jumlah paku kecil yang menempel pada paku besar
 - Lakukan hal yang sama dengan jarak yang berbeda
- Langkah-langkah tersebut menunjukkan percobaan membuat magnet dengan cara
- induksi
 - konduksi
 - konveksi
 - elektromagnetis
4. Perhatikan gambar berikut!



- Arti warna biru pada gambar tersebut melambangkan
- stabilitas
 - semangat
 - perdamaian
 - kedinamisan

B. PILIHAN GANDA KOMPLEKS

Berilah tanda centang (✓) pada jawaban yang tepat! Jawaban dapat lebih dari satu.

5. Perhatikan pernyataan berikut!
- Berikut pernyataan mengenai manfaat keanekaragaman budaya Indonesia.
- Mempersatukan budaya Indonesia
 - Semangat membangun bangsa menjadi kendor
 - Tertanam sikap saling menyaingi terhadap budaya lain
 - Sangat menarik sehingga dapat dijadikan objek pariwisata

Berilah tanda centang (✓) pada pernyataan yang benar dan yang salah mengenai manfaat keanekaragaman budaya tersebut!

Pernyataan	Benar	Salah
4		
3		
2		
1		

6. Perhatikan gambar berikut!



Berilah tanda centang (✓) pada pernyataan yang benar dan yang salah mengenai sifat-sifat gambar tersebut!

Pernyataan	Benar	Salah
1. Hanya memiliki dua kutub		
2. Kutub senama tarik menarik		
3. Kutub senama tolak menolak		
4. Tidak dapat menarik benda-benda logam		

7. Perhatikan paragraph berikut!

Salah satu program pengembangan ekonomi di ASEAN adalah terbentuknya MEA. MEA adalah singkatan dari Masyarakat Ekonomi ASEAN. MEA merupakan sebuah sarana pengembangan ekonomi yang menjadi bagian ekonomi global. MEA diresmikan pada tanggal 31 Desember 2015.

Berilah tanda centang (✓) pada pernyataan yang benar dan yang salah mengenai tujuan terbentuknya program tersebut!

Pernyataan	Benar	Salah
1. Meningkatkan stabilitas ekonomi		
2. Menciptakan lapangan kerja baru		
3. Diharapkan mampu menyaingi kekuatan ekonomi Asia		
4. Mengatasi masalah-masalah di bidang ekonomi antar negara di dunia		

8. Perhatikan gambar contoh kemasan berikut!



Berilah tanda centang (✓) pada pernyataan yang benar dan yang salah mengenai fungsi gambar tersebut!

Pernyataan	Benar	Salah
1. Melindungi dari sinar ultraviolet		
2. Menghambat efisiensi produk		
3. Sebagai identitas produk		
4. Sebagai media hiburan		


C. MENJODOHKAN

9. Perhatikan format Formulir Pendaftaran Lomba Cerdas Cermat dan data siswa berikut! Hubungkan dengan garis bagian formulir dengan data yang sesuai!

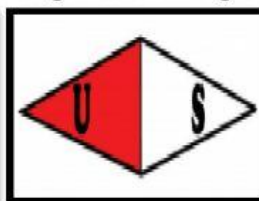
Bagian Formulir	
Nama Lengkap	●
Tempat/Tanggal Lahir	●
Kode Pos	●
Nomor Telepon	●

Data Siswa	
●	90241
●	+6281234567890
●	Nurul Azizah
●	Makassar, 17 Juli 2010

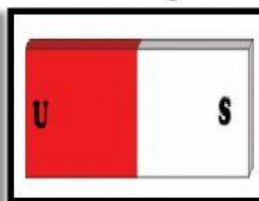
10. Perhatikan gambar berbagai bentuk magnet dan nama magnet berikut!



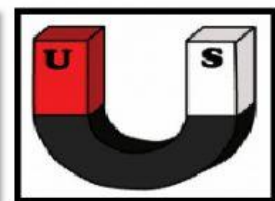
Gambar 1



Gambar 2



Gambar 3



Gambar 4

Hubungkan dengan garis gambar dengan nama magnet yang sesuai!

Gambar	
4	●
3	●
2	●
1	●

Nama Magnet	
●	Magnet batang
●	Magnet ladam
●	Magnet silinder
●	Magnet jarum


11. Perhatikan gambar berikut ini!



Gambar 1



Gambar 2



Gambar 3



Gambar 4

Hubungkan dengan garis antara bidang kerjasama dengan contoh kerjasama di lingkup ASEAN pada gambar tersebut!

Bidang Kerjasama	
Politik	●
Ekonomi	●
Pendidikan	●
Sosial budaya	●

Gambar	
●	4
●	3
●	2
●	1

12. Perhatikan gambar reklame dengan nama reklame berikut ini!



Gambar 1



Gambar 2



Gambar 3



Gambar 4

Hubungkan dengan garis antara gambar dengan nama reklame yang tepat!

Gambar	
1	●
2	●
3	●
4	●

Nama Reklame	
●	Banner
●	Baliho
●	Poster
●	Embalase

D. ISIAN SINGKAT

Isilah titik-titik berikut ini dengan jawaban yang tepat!

13. Perhatikan pernyataan berikut ini!

"Kemampuan yang dimiliki oleh seseorang untuk melihat dan menilai kesempatan bisnis, mengumpulkan sumber daya yang dibutuhkan untuk mengambil tindakan yang tepat, dan mengambil keuntungan dalam rangka meraih sukses".

Pernyataan tersebut merupakan definisi dari

14. Perhatikan pernyataan berikut ini!

"Lembar isian yang berisi data pribadi yang biasanya digunakan untuk melengkapi syarat ketika akan melamar pekerjaan".

Pernyataan tersebut merupakan definisi dari

15. Perhatikan gambar berikut!



Pentul



Krayon



Penghapus



Peluru klip



Penggaris



Baut

Yang termasuk benda magnetis pada gambar tersebut adalah

16. Perhatikan pernyataan berikut ini!

"Tanda, lambang, atau simbol yang mengandung makna dan digunakan sebagai identitas sebuah organisasi, perusahaan, atau individu agar mudah diingat oleh orang lain".

Pernyataan tersebut merupakan definisi dari

E. URAIAN

Jawablah pertanyaan berikut dengan tepat!

17. Perhatikan contoh Formulir Penerimaan Barang Dalam Negeri berikut ini!

Data Penerima	
Nama Awal :	<input type="text"/>
Nama Akhir :	<input type="text"/>
Alamat Penerima :	<input type="text"/>
Provinsi :	<input type="text"/>
Kota/Kabupaten :	<input type="text"/>
Kode Pos :	<input type="text"/>
Telepon :	<input type="text"/>
Data Pengirim	
Nama Awal :	<input type="text"/>
Nama Akhir :	<input type="text"/>
Alamat Penerima :	<input type="text"/>
Provinsi :	<input type="text"/>
Kota/Kabupaten :	<input type="text"/>
Kode Pos :	<input type="text"/>
Telepon :	<input type="text"/>
Januari 2018	
(.....) Tanda tangan dan nama lengkap pengirim	(.....) Tanda tangan petugas

Mengapa kita perlu mencantumkan poin yang dilingkari pada formulir pengiriman barang seperti tersebut? Jelaskan!

Jawaban :

.....

.....

.....

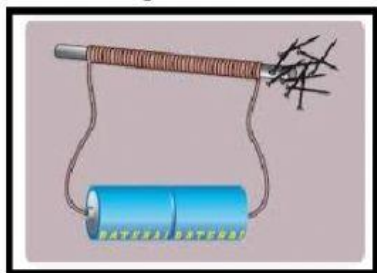
.....

.....

.....

.....

18. Perhatikan gambar berikut!



Jelaskan langkah-langkah pembuatan magnet berdasarkan gambar tersebut!

Jawaban :

.....

.....

.....

.....

.....

19. Perhatikan peta berikut!



Jelaskan 4 (empat) peran / posisi negara anggota ASEAN yang dilingkari tersebut !

Jawaban :

.....

.....

.....

.....

.....

.....

20. Perhatikan gambar berikut!



Jelaskan 4 (empat) ciri-ciri gambar tersebut!

Jawaban :

.....

.....

.....

.....

.....

~ SEMOGA SUKSES ~