



## PEMERINTAH KABUPATEN SINJAI

## DINAS PENDIDIKAN

## SD NEGERI 68 MANIPI KEC. SINJAI BARAT

Jl. Lembah Harapan Manipi Kel. Tassililu, Kec. Sinjai Barat ☒ 92653 Manipi

## SOAL PENILAIAN AKHIR SEMESTER (PAS)

Tema : 4. Sehat Itu Penting

Kelas/ Smt : V (lima)/ Ganjil

Tahun Pelajaran: 2022/2023

Nama Siswa : .....

Mapel	No. Soal	Nilai	Ketuntasan	TTD Guru	TTD Orang Tua
PPKn					
Indonesia					
IPA					
IPS					
SBdP					

## A. PILIHAN GANDA

Jawablah pertanyaan di bawah ini dengan memberi tanda silang (x) pada pilihan jawaban yang paling benar!

1. Perhatikan Gambar Berikut!



Kegiatan pada gambar adalah bentuk tanggung jawab siswa di lingkungan....

- A. rumah
- B. sekolah
- C. masyarakat
- D. tempat bermain

2. Perhatikanlah pantun berikut !

(1)Kucing hitam halus bulunya

(2)Kumis panjang putih warnanya

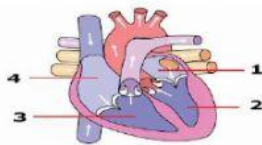
(3)Geram sudah hatiku dibuatnya

(4)Uang hilang siapa pelakunya?

Sampiran pada pantun di atas ditunjukkan oleh nomor....

- A. 1 dan 2
- B. 2 dan 3
- C. 3 dan 4
- D. 2 dan 4

3. Perhatikan gambar di bawah ini!



Ruangan dalam jantung yang bertugas memompa darah ke paru-paru di tunjukkan oleh nomor ....

- A. 1
- B. 2
- C. 3
- D. 4

4. Perhatikan lagu berikut ini !

(1) Hari Merdeka.

(2) Indonesia Pusaka.

(3) Berkibarlal Benderaku.

(4) Ambilkan Bulan.

Contoh lagu bertangga nada mayor ditunjukkan oleh nomor ....

- A. 1 dan 2
- B. 2 dan 3
- C. 1 dan 3
- D. 2 dan 4

## B. PILIHAN GANDA KOMPLEKS

Berilah tanda centang (✓) pada jawaban yang benar! Jawaban dapat lebih dari satu.

5. Perhatikan pantun berikut !

*Terbang rendah burung kutilang  
Hinggap didahan sambil menoleh  
Hatiku senang tidak kepalang  
Ayah pulang membawa oleh-oleh*

Berilah tanda (✓) pada kolom benar atau salah yang dianggap sesuai dengan pantun di atas !

Pernyataan	Benar	Salah
Bersajak a-a-a-a		
Terdiri atas 1 bait dan 4 baris		
Termasuk jenis pantun kanak-kanak		
2 baris pertama adalah sampiran dan 2 baris kedua adalah isi		

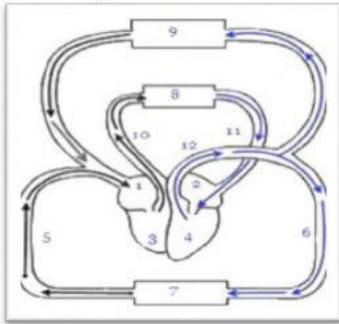
6. Perhatikan gambar berikut !



Berilah tanda centang (✓) pada kolom **Benar** atau **Salah** berdasarkan tangga nada di atas!

Pernyataan	Benar	Salah
Bersemangat		
Bersifat sedih		
Bersifat riang gembira		
Biasanya diawali dan diakhiri dengan nada Do		

7. Perhatikan gambar di bawah ini !



Berdasarkan gambar di atas Berilah tanda centang (✓) pada kolom **Benar** atau **Salah** pada Urutan peredaran darah kecil.

Pernyataan	Benar	Salah
3 – 10 – 8 – 11 – 2 – 4		
9 – 8 – 10 – 1 – 3 – 7		
9 – 8 – 11 – 12 – 2 – 4		
3 – 10 – 8 – 11 – 12 – 4		

8. Perhatikan gambar berikut !



Berilah tanda centang (✓) pada kolom **Benar** atau **Salah** yang sesuai dengan gambar di atas !

Pernyataan	Benar	Salah
Menjaga persatuan dan kesatuan.		
Meningkatkan sikap diskriminasi		
Solidaritas antarsesama anggota masyarakat		
Memicu perselisihan antaranggota masyarakat.		

## C. MENJODOHKAN

9. Perhatikan gambar di bawah ini !



Gambar 1



Gambar 2



Gambar 3



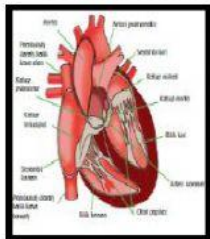
Gambar 4

Pasangkan gambar di atas yang sesuai dengan jenis interaksi yang tepat dengan menggunakan garis!

Jenis interaksi	
Interaksi Persatuan	•
	•
Interaksi Perpecahan	•
	•

Gambar	
•	1
•	2
•	3
•	4

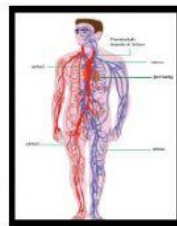
10. Perhatikan Gambar di bawah ini !



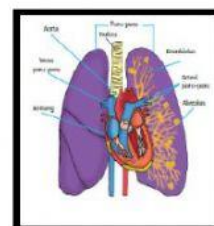
Gambar 1



Gambar 2



Gambar 3



Gambar 4

Jodohkanlah gambar organ peredaran darah manusia yang sesuai dengan fungsinya dengan menggunakan garis !

Gambar	
Gambar 1	•
Gambar 2	•
Gambar 3	•

Fungsi Organ Peredaran Darah Manusia	
•	Berfungsi sebagai penyuplai oksigen ke dalam darah. Darah yang telah diedarkan ke seluruh tubuh tidak lagi mengandung oksigen. Akan tetapi banyak mengandung karbon dioksida.
•	Berfungsi memompa darah ke seluruh tubuh. memompa darah dengan cara berkontraksi dan berelaksasi secara bergantian, sehingga berdenyut, mengembang, dan mengempis
•	Berfungsi sebagai saluran tempat mengalirnya darah dari jantung ke seluruh tubuh dan dari seluruh tubuh kembali ke jantung. Organ ini terdiri atas dua jenis, yaitu pembuluh nadi dan pembuluh balik. Pembuluh nadi disebut <b>arteri</b> . Pembuluh balik disebut <b>vena</b> .



Gambar 4

- Mengangkut oksigen dan karbon dioksida untuk menunjang sistem respirasi tubuh

11. Perhatikan pantun berikut !

Hujan turun rintik-rintik  
Ada gubug di tepi sawah  
Wahai dinda berwajah cantik  
Bolehkah kanda main ke rumah

Pantun 1

Buaya putih hidup di rawa  
Meronta-ronta terjatuh jaring  
Perut sakit menahan tawa  
Gigi nenek loncat di piring

Pantun 2

Berjalan dalam gelap  
Dapatkan ular warna hitam  
Berkelana tanpa menatap  
Bagai meraba dalam kelim

Pantun 3

Ibu ibu pergi ke pasar  
untuk membeli perhiasan  
kalau kamu malas belajar  
akan menyesal kemudian

Pantun 4

Jodohkanlah pantun di atas yang sesuai jenisnya dengan menggunakan garis !

Pantun	
1	●
2	●
3	●
4	●

Jenis pantun	
●	Pantun kiasan
●	Pantun nasehat
●	Pantun muda
●	Pantun jenaka

12. Perhatikan gambar di bawah ini!



Gambar 1



Gambar 2



Gambar 3



Gambar 4

Gambar	
1	●
2	●
3	●
4	●

Jenis interaksi	
●	Bidang politik
●	Bidang ekonomi
●	Bidang moral
●	Bidang sosial budaya

## D. ISIAN SINGKAT

Isilah titik-titik berikut ini dengan jawaban yang tepat !

13. Perhatikanlah lagu berikut ini!

**Bintang Kecil**

g = do, 4/4  
Moderato

Daljono

Bintang ke-cil di langit yang ting-gi  
A-mat ba-nyak menghi-as ang-ka-sa  
A-ku i-ngin terbang dan me-na-ri,  
Ja-uh ting-gi ke tempat kau ber-a-da

**Syukur**

C = la, 4/4  
Andante Susterula

cipt. H. Mutahar

Da-ri ya-kin-ku teguh, Ha-ti tak ter-ku pa-nuh  
A-kan ka-nu-ni-a-Mu, Ta-neh A-ri Pu-se-ka  
In-do-ne-sia Mer-de-ka, Syukur a-ku sem-bahkan, ke  
ha-ci-ratMu tu-han.

Lagu diatas menggunakan tangga nada diatonis . . . . .

14. Perhatikan teks Berikut !

Iwan dan Ardi maju mengikuti pemilihan ketua kelas, keduanya ingin menjadi ketua kelas. Setelah diadakan pemilihan ketua kelas, ternyata para siswa sepakat memilih Ardi sebagai ketua kelas.

Berdasarkan teks di atas, yang harus dilakukan Iwan dalam menyikapi keputusan tersebut adalah . . . . .

...

15. Perhatikan pantun berikut !



Amanat dari pantun di atas adalah . . . . .

16. Perhatikan gambar berikut !



Dengan rajin mengkonsumsi buah pada gambar di atas serta mengurangi mengkonsumsi makanan yang banyak mengandung garam dapur dapat mencegah penyakit . . . . .

E. URAIAN

Jawablah pertanyaan berikut dengan tepat!

17. Perhatikan teka – teki Berikut !



Buatlah pantun berdasarkan teka-teki di atas !

Jawaban :

.....

.....

.....

.....

.....

.....

18. Perhatikanlah Gambar Berikut !



Tuliskan masing –masing 3 hak dan 3 kewajiban yang sesuai dengan gambar di atas !

Jawaban :

.....

.....

.....

19. Perhatikan gambar berikut !





Selain contoh interaksi yang ada pada gambar di atas, tuliskan 3 contoh lain bentuk interaksi dalam bidang ekonomi !

Jawaban :

.....

.....

.....

20. Perhatikan gambar berikut !



Tuliskan 3 properti yang digunakan pada gambar diatas!

Jawaban :

.....

.....

.....

.....

.....

.....