

ДОДАЄМО І ВІДНІМАЄМО ЧИСЛА 0, 1, 2

1 Знайди значення сум. Знайди значення решти виразів.

$9+1$

$9-1$

$5+1$

$10-10$

$6-6$

$5+0$

$7-1$

$3+1$

$0+7$

$4-0$

$0+10$

$8-1$


2 Запиши суми та знайди їх значення. З кожної рівності на додавання склади дві рівності на віднімання.

$6+1$

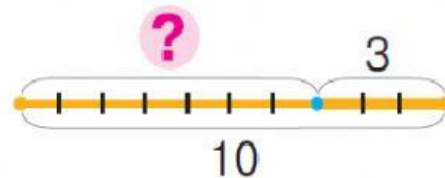
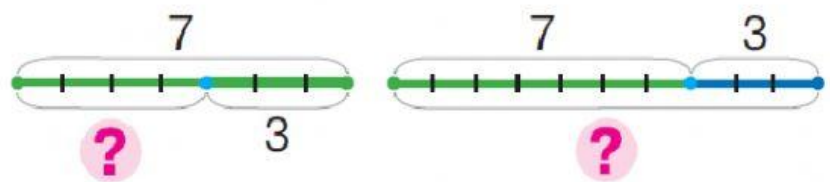

$8+0$

$3+2$

$9+1$



3 Добери до малюнка схему та вираз.



$10-3$

$7+3$

$7-3$