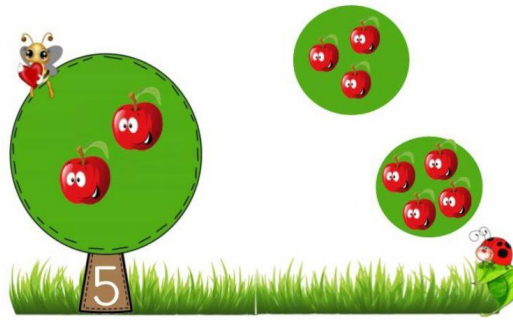
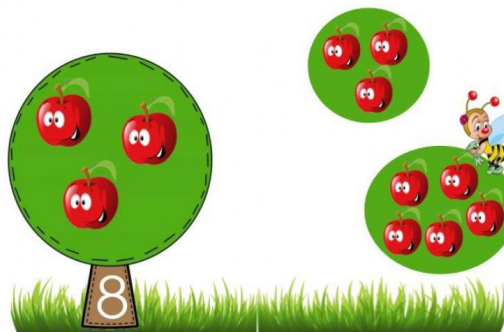



SEÑALA EL GRUPO DE MANZANAS NECESARIO PARA COMPLETAR LA CANTIDAD INDICADA EN CADA ÁRBOL. DESPUÉS COMPLETA LA SUMA



$$2 + \text{apple} = 5$$



$$3 + \text{apple} = 8$$



$$4 + \text{apple} = 10$$



$$5 + \text{apple} = 12$$