

**PENILAIAN AKHIR SEMESTER (PAS)**  
TAHUN PELAJARAN 2022 – 2023

# SD/MI

**TEMA 2 (UDARA BERSIH BAGI KESEHATAN)**

KELAS : V (LIMA)

NAMA :  
-----



**DINAS PENDIDIKAN KABUPATEN SINJAI**

**PILIHAN GANDA - IPA****I. Berilah tanda silang (X) pada huruf A, B, C atau D di depan jawaban yang benar!**

Perhatikan bacaan berikut untuk menjawab soal nomor 1-3 !

**Tuberkulosis (TBC) merupakan penyakit paru – paru yang disebabkan oleh *Mycobacterium tuberculosis*. Bakteri tersebut menimbulkan bintil – bintil pada dinding alveolus. jika penyakit ini menyerang dan dibiarkan semakin luas, dapat menyebabkan sel – sel pada paru – paru mati. Akibatnya paru – paru akan menguncup atau mengecil. Hal tersebut menyebabkan para penderita TBC napasnya sering terengah – engah.**

1. Penyebab penyakit Tuberkolosis (TBC) berdasarkan bacaan di atas adalah . . .
  - A. Alveolus yang terdapat bintil - bintil
  - B. Bakteri mycobacterium tubercolosis
  - C. Alergi debu, bulu, atau perubahan cuaca
  - D. Kebiasaan merokok yang berlarut
2. Kondisi paru – paru pada penderita Tuberkolosis (TBC) berdasarkan bacaan di atas adalah . . .
  - A. Paru – paru mengalami pembekakan
  - B. Paru – paru seperti terbakar
  - C. Paru – paru termakan oleh bakteri
  - D. Paru – paru akan menguncup dan mengecil
3. akibat yang dirasakan para penderita TBC berdasarkan bacaan di atas adalah ....
  - A. Legah
  - B. panas
  - C. sering terengah - engah
  - D. segar

**Perhatikan bacaan berikut untuk menjawab soal nomor 4-5 !**

Bronkitis merupakan gangguan pada cabang batang tenggorokan akibat infeksi. gejalanya adalah penderita mengalami demam dan menghasilkan lendir yang menyumbat.

4. Gangguan pada cabang batang tenggorokan akibat infeksi berdasarkan bacaan di atas ialah ....
  - A. Influenza (flu)
  - B. Kanker paru – paru
  - C. Bronkitis
  - D. TBC
5. Gejala yang dirasakan pada penderita Bronkitis berdasarkan bacaan di atas ialah . . .
  - A. Bersin – bersin
  - B. Pilek
  - C. Demam dan menghasilkan lendir
  - D. Pusing

6. Organ pernapasan harus senantiasa kita pelihara kesehatannya, salah satunya dengan cara . . . .
- A. Datang ke daerah yang terkena kabut asap
  - B. Memastikan udara di sekitar selalu lembab
  - C. Olahraga secara teratur dan mengonsumsi makanan bergizi
  - D. Tidur secara teratur dengan posisi tengkurap
7. Gas berikut sangat berbahaya bagi sistem pernapasan manusia, kecuali . . . .
- A.  $\text{CO}_2$
  - B.  $\text{O}_2$
  - C.  $\text{O}_3$
  - D.  $\text{SO}_2$
8. Cacing tidak mempunyai alat pernapasan khusus, cacing bernapas melalui permukaan kulit. Kulit cacing selalu basah dan berlendir untuk memudahkan penyerapan oksigen dari udara. Alat pernapasan pada cacing adalah . . .
- A. Trakea
  - B. Paru – paru
  - C. Permukaan Kulit
  - D. insang

### ISIAN – SBdP

#### II. Isilah titik-titik di bawah ini dengan jawaban yang tepat!

Perhatikan gambar tari payung berikut untuk menjawab soal nomor 9 – 11 !



9. Tari payung menggunakan properti . . . .
10. Tari payung di atas berasal dari daerah ....
11. Jumlah penari pada tari payung ... orang.

Perhatikan gambar poster berikut untuk menjawab soal nomor 12 !





12. Poster pada gambar di atas mengajak masyarakat untuk . . . .
13.  $1 \ 1 \ \frac{1}{2} \ 1 \ 1 \ \frac{1}{2}$  merupakan jarak interval yang dimiliki oleh tangga nada . . .







### MENJODOHKAN – IPS

**III. Jodohkanlah beberapa pernyataan berikut dengan menarik garis dari ruas kiri ke ruas kanan dengan tepat!**

**Perhatikan bacaan berikut!**

Jenis – jenis usaha dan kegiatan ekonomi berdasarkan bentang alam di Indonesia di antaranya kegiatan pertanian contoh jenis tanaman pertanian : padi, sayuran dan buah – buahan. Kegiatan peternakan contoh jenis hewan ternak seperti sapi, kambing, ayam dan kuda. Kegiatan pertambangan contoh jenis pertambangan : emas, nikel, batu bara, minyak bumi.







14. Jodohkan beberapa pernyataan berikut berdasarkan teks di atas!

Jenis – jenis usaha dan kegiatan ekonomi		
1. Pertanian		 a.Emas, nikel, batu bara, minyak bumi.
2. Peternakan		 b.padi,sayuran,dan buah–buahan.
3. pertambangan		 c.sapi, kambing, ayam dan kuda.

**Perhatikan bacaan berikut!**

Dampak kegiatan ekonomi terhadap kesejahteraan masyarakat .Kegiatan ekonomi dapat dibedakan menjadi tiga jenis yaitu produksi(pembuat), distribusi (penyaluran), dan konsumsi (pemakaian) . kegiatan produksi berdampak langsung terhadap kesejahteraan produsen, yaitu keuntungan yang diperoleh dari kegiatan produksi digunakan untuk memenuhi kebutuhan hidupnya.kegiatan distribusi disebut sebagai distributor, dampaknya dapat mempengaruhi kesejahteraan yang akan didapat oleh produsen dan distributor. Sedangkan kegiatan konsumsi atau pemakai. Barang – barang hasil produksi akan dimanfaatkan atau dipakai oleh konsumen, kegiatan konsumsi barang ada yang memberikan manfaat langsung dan tidak langsung.

15. Jodohkan beberapa pernyataan berikut berdasarkan teks di atas!

Dampak kegiatan ekonomi terhadap kesejahteraan masyarakat		
1. konsumsi		 a.untuk memenuhi kebutuhan hidupnya.
2. produsen		 b.dampaknya memberikan manfaat langsung dan tidak langsung
3. distribusi		 c. dapat mempengaruhi kesejahteraan yang akan didapat oleh produsen dan distributor.

## URAIAN – BAHASA INDONESIA

## IV. Jawablah pertanyaan-pertanyaan di bawah ini dengan tepat!

*Perhatikan teks berikut untuk menjawab soal nomor 16 dan 17 !*

**Fungsi kata tanya**

1. Kata tanya **Apa** berguna untuk menanyakan sesuatu, benda, perbuatan, dan segala sesuatu yang berkaitan dengan isi **bacaan** atau pembahasan.
2. **Siapa**, kata tanya **siapa** berguna untuk menanyakan nama seseorang atau pihak yang terlibat.
3. Kata tanya **kapan**, berguna untuk menanyakan waktu terjadinya sesuatu atau peristiwa.

16. Berdasarkan teks di atas buatlah masing – masing 1(satu) contoh kalimat . dengan kata tanya apa, siapa dan kapan?

Jawab: \_\_\_\_\_  
\_\_\_\_\_  
\_\_\_\_\_

17. Tuliskan fungsi kata tanya apa, siapa, dan kapan berdasarkan teks di atas!

Jawab: \_\_\_\_\_  
\_\_\_\_\_  
\_\_\_\_\_

*Perhatikan teks berikut untuk menjawab soal nomor 18!*

Dalam rangka hari proklamasi Indonesia pada tanggal 17 Agustus, sekolah Nina mengadakan kegiatan pembibitan tanaman. Sebelumnya, pihak sekolah dan seluruh siswa menyiapkan bibit tanaman yang telah ditanam pada kantong plastik tanaman (polybag).

18. Tuliskan informasi penting yang ada pada teks di atas?

Jawab: \_\_\_\_\_  
\_\_\_\_\_  
\_\_\_\_\_

**V. PILIHAN GANDA KOMPLEKS – PPKN**

Berilah tanda centang (✓) pada kolom BENAR/SALAH sesuai pernyataan dengan tepat!

Perhatikan teks berikut!

Beberapa contoh bentuk tanggung jawab seseorang atau siswa terhadap sekolah, antara lain:

1. mematuhi tata tertib yang berlaku di sekolah
2. menjaga ketertiban di sekolah
3. menjaga kebersihan sekolah
4. menghormati guru
5. mengerjakan tugas yang diberikan oleh guru
6. menjaga kerukunan dengan teman di sekolah

19. Berilah tanda centang (✓) pada kolom BENAR/ SALAH sesuai pernyataan berikut berdasarkan Teks di atas!

NO	PERTANYAAN	BENAR	SALAH
1.	Mematuhi tata tertib yang berlaku di sekolah		
2.	Mengerjakan tugas yang diberikan oleh guru		
3.	Tidak menjaga kebersihan sekolah		

Perhatikan teks berikut!

contoh kewajiban diantaranya : belajar dengan sungguh – sungguh, menghormati guru, menghargai pendapat teman, membuang sampah pada tempatnya, menghormati orang tua dan menyayangi saudara. Sedangkan contoh hak diantaranya : memperoleh pendidikan dan ilmu pengetahuan, bermain bersama teman, mengikuti pemilihan ketua kelas.

20. Berilah tanda centang (✓) pada kolom BENAR/ SALAH sesuai pernyataan berikut berdasarkan Teks di atas!

NO	PERTANYAAN	BENAR	SALAH
1.	Belajar dengan sungguh - sungguh		
2.	Membuang sampah sembarangan		
3.	Memperoleh pendidikan dan ilmu pengetahuan		

\*\*\* SELAMAT BEKERJA \*\*\*